





Nama:



Kelas:



Petunjuk: pahami dan jawablah lembar kerja berikut!

1. Peristiwa sejarah yang terjadi di Eropa dan menandai terbukanya hubungan dagang antara Eropa dengan Indonesia adalah ...
  - a. Berkembangnya paham merkantilisme
  - b. Revolusi industri di beberapa negara
  - c. Perang salib
  - d. Reformasi gereja
  - e. Jatuhnya konstantinopel
2. Pada tahun berapakah Portugis berhasil menguasai Malaka ...
  - a. 1492
  - b. 1509
  - c. 1511
  - d. 1521
  - e. 1602
3. Bangsa Portugis sampai Maluku pada tahun ...
  - a. 1510
  - b. 1512
  - c. 1511
  - d. 1521
  - e. 1602
4. Perselisihan antar Portugis dan Spanyol di Nusantara dapat diselesaikan dengan sebuah perjanjian yaitu ...
  - a. Perjanjian Trodesillas
  - b. Perjanjian Saragosa
  - c. Perjanjian Giyabnti
  - d. Traktat London
  - e. Kapitulasi Tuntang
5. Armada tentara Demak berhasil mengalahkan dan mengusir Portugis dari Sunda Kelapa di bawah pimpinan ...
  - a. Sultan Tranggono



- 
- b. Adipati Unus
  - c. Sunan Kudus
  - d. Fatahillah
  - e. Sultan Agung
6. Tujuan untuk mencari kejayaan, kekuasaan, dan wilayah jajahan disebut ...
- a. Gold
  - b. Glory
  - c. Gospel
  - d. Kolonialisme
  - e. Imprealisme
7. Alasan utama perlawanan Kerajaan-kerajaan di Nusantara terhadap Portugis ...
- a. Penjajahan dan eksploitasi sumber daya alam
  - b. Persaingan perdagangan
  - c. Penyebaran budaya
  - d. Perbedaan agama
  - e. Penyebaran Bahasa
8. Jalur pelayaran bangsa portugis, yaitu ...
- a. Portugis-kalkuta-malaka-india-maluku
  - b. Portugis-tanjung harapan-kalkuta-go-malaka-ternate
  - c. Portugis-tanjung harapan-kalkuta-go-malaka-tidore
  - d. Tanjung harapan-filipina-aceh-maluku
  - e. Tanjung harapan-selat Magellan-kalkuta-maluku
9. Mengapa Spanyol tidak dapat bertahan lama di Nusantara ...
- a. Persaingan antara spanyol dan portugis
  - b. Kurangnya sumber daya manusia
  - c. Kebangkitan Kerajaan lokal
  - d. Tidak adanya dukungan dari Spanyol
  - e. Semua jawaban benar
10. Apa yang terjadi setelah Portugis menguasai Malaka ...
- a. Mereka membangun koloni di seluruh Nusantara
  - b. Mereka menguasai jalur perdagangan rempah-rempah
  - c. Mereka menjalin aliansi dengan Kerajaan lokal
  - d. Mereka meninggalkan Nusantara
  - e. Semua jawaban salah
- 

- 
11. Armada Belanda tiba di Banten pada tahun 1598 M, di bawah pimpinan ...
- Van den Bosch
  - Cornelis de Houtman
  - Jacob Van Neck
  - J.P. Coen
  - Sir James Lacaster
12. Armada Inggris tiba di Banten pada tahun 1602 M, di bawah pimpinan ...
- Van den Bosch
  - Cornelis de Houtman
  - Jacob Van Neck
  - J.P. Coen
  - Sir James Lacaster
13. Mengapa Cornelis de Houtman tidak diterima di Indonesia pada tahun 1586?
- Kedatangannya tidak sejalan dengan niat baik atau tujuan pedagang Eropa sebelumnya.
  - Penguasa lokal tidak mengizinkan kedatangannya karena alasan politik.
  - Dia tidak memiliki kapal yang memadai untuk melakukan perdagangan di wilayah tersebut.
  - Awak kapal Belanda melakukan tindakan kekerasan terhadap penduduk setempat.
  - Dia tidak memiliki lisensi dagang yang sah dari pemerintah Belanda.
14. Jalur yang dilalui bangsa Spanyol hingga akhirnya sampai ke Nusantara adalah ...
- Spanyol-samudra atlantik-benua amerika-selat Magellan-samudra pasifik-filipina-tidore
  - Spanyol-samudra atlantik-benua amerika-selat Magellan-samudra pasifik-filipina-ternate
  - Spanyol-samudra atlantik-benua amerika-selat Magellan-india-filipina-maluku
  - Spanyol-samudra atlantik-selat Magellan-selat malaka-filipina-tidore
  - Spanyol-samudra atlantik-selat Magellan-selat malaka-filipina-ternate
15. Tokoh Portugis yang berhasil menaklukkan Malaka ...
- Christoper Colombus
  - Ferdinand Magelhaenas
  - Alfonso de Albuquerque
  - Cornelis de Houtman
- 

- 
- e. Vasco da Gama
16. Kebijakan colonial Portugis yang memicu perlawanan lokal adalah ...
- Monopoli perdagangan dan rempah-rempah.
  - Adanya praktik diskriminasi terhadap penduduk pribumi.
  - Campur tangan terhadap masalah internal kerajaan
  - Sikap angkuh yang diperlihatkan oleh Portugis.
  - Semua benar
17. Jalur pelayaran yang digunakan bangsa Belanda untuk mencapai Hindia Timur ...
- Belanda-selat magellan-tanjung harapan-samudra hindia-selat sunda-maluku
  - Belanda-selat magellan-tanjung harapan-samudra hindia-selat sunda-banten
  - Belanda-pantai barat afrika-tanjung harapan-samudra hindia-selat sunda-maluku
  - Belanda-pantai barat afrika-tanjung harapan-samudra hindia-selat sunda-banten
  - Jalur laut melalui Samudra Atlantik dan Laut Karibia.
18. Siapa pelaut Belanda yang pertama kali mencapai Indonesia pada tahun 1596 dan mendirikan pos perdagangan di Banten?
- Abel Tasman
  - Willem Jaszoon
  - Jan Pieterszoon Coen
  - Cornelis De Houtman
  - Pieter Both
19. Siapakah penjelajah Spanyol yang terkenal karena mengelilingi dunia dan mencapai kepulauan Filipina pada tahun 1521 ...
- Ferdinan Magellan
  - Vasco Núñez De Balboa
  - Hernán Cortés
  - Franciso Pizarro
  - Juan Ponce De Leon
20. Konsep "Gold, Glory, Gospel" menggambarkan motivasi utama dari bangsa Eropa dalam menjelajahi dunia baru. "Gold" merujuk pada ...
- Pencarian kekayaan dan perdagangan.
  - Keinginan untuk mengamankan kehormatan bangsa.
  - Penyebaran agama Kristen.
  - Penjajahan ilmiag dan penemuan baru.
- 



e. Kepentingan politik dan diplomasi

