

UNIDAD EDUCATIVA XYZ MATEMÁTICAS

Nombre: _____

Sume los valores correctamente y arrastre el valor que corresponde en cada suma



3
5
8
3



7
9
3
2

19

20

21

Responda correctamente Verdadero con una V y Falso con una F

El número 6 es un número impar

El número 3 es un número par

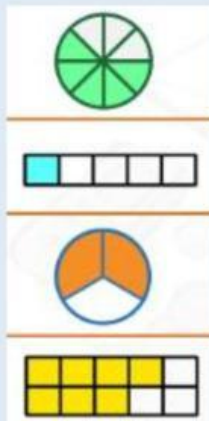
Escoja la respuesta correcta

>

<

=

Unir con línea correctamente



$\frac{2}{3}$




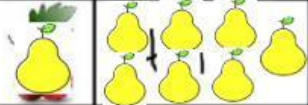
$\frac{1}{5}$

$\frac{7}{10}$

$\frac{5}{8}$

Dar clic en el micrófono e indicar cuáles son los números pares

Seleccionar la respuesta correcta,

	4	5
	3	2
	6	4
	8	9

Realice correctamente la sopa de letras

A	S	D	O	S	F	R	A	V
D	C	I	N	C	O	O	N	E
U	O	E	R	R	S	N	T	I
L	N	C	R	T	A	U	I	N
E	F	I	I	O	F	S	S	T
P	E	O	U	N	A	O	E	I
O	T	C	I	U	C	N	R	U
R	I	H	S	N	S	E	T	N
U	N	O	S	O	N	M	M	O

$(+3) + (-2) =$	$(-5) + (+6) + (-1) =$
$-3 \{+2 - [+6 + 2]\} =$	$-1 \{+1 - [+6 - 6]\} =$
$(-10) : (-2) =$	$(-6) : (-3) =$
$(+15) : (+5) =$	$(+20) - (-1) =$