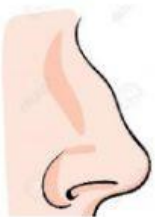


CUESTIONARIO DE CIENCIAS NATURALES

SEGUNDO GRADO

Nombre:

1. ¿A qué sentido pertenecen los siguientes órganos?



2. Es una mezcla de gases que se encuentra en una capa de la Tierra llamada atmósfera terrestre:

a) Agua

b) Contaminación

c) Aire

3. Nos sirven para conocer y relacionarnos con nuestro entorno.

a) Sentidos

b) El cuerpo

c) Las extremidades

4. Es el gas que contamina el aire.

a) Oxígeno

b) Nitrógeno

c) Dióxido de carbono

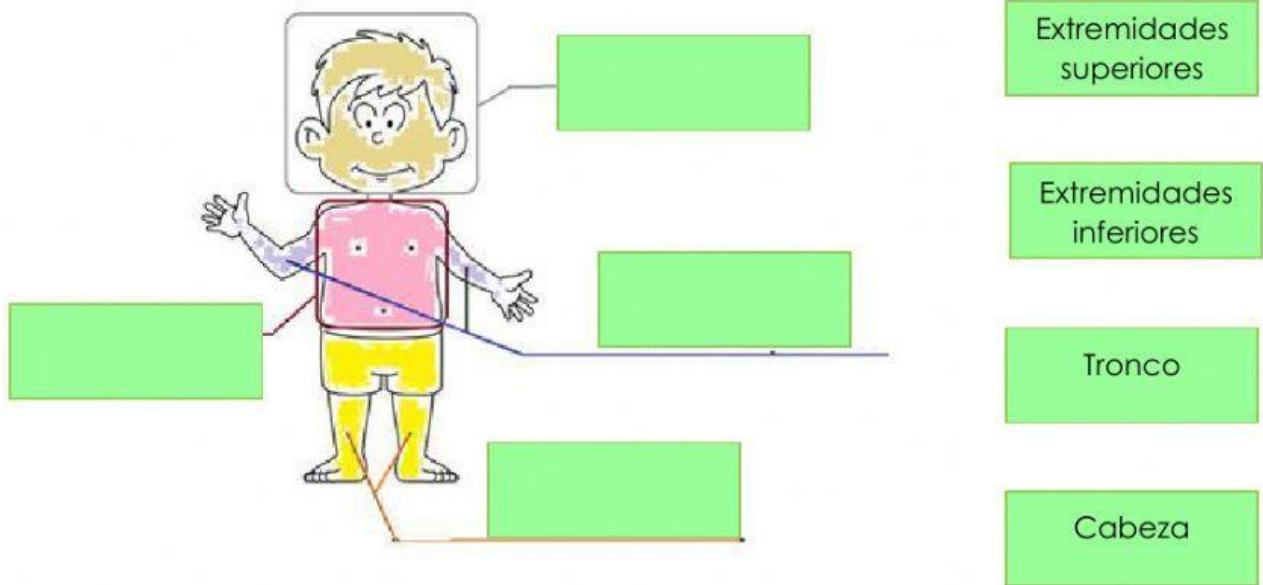
5. Son características del aire.

a) Tiene color y sabor.

b) No tiene forma propia, se mueve y provoca el viento.

c) No tiene color, no tiene sabor y se puede ver.

6. Observa la siguiente imagen y coloca los nombres de las partes del cuerpo:



7. Lee las afirmaciones y elige de qué sentido se trata.

Nos permite percibir las cualidades de los objetos.	
Nos permite percibir todos los sonidos.	
Nos permite percibir todos los olores.	
Nos permite percibir todos los sabores.	
Nos permite percibir formas, colores, distancia y tamaños.	

8. No es una parte del órgano principal del sentido de la vista.

a) Pestañas

b) Papilas gustativas

c) Pupila

9. Nombre del hueso central del órgano principal del sentido del olfato.

a) Tabique

b) Fosas nasales

c) Tímpano

10. Es parte del órgano principal del sentido del oído.

a) Iris

b) Tabique

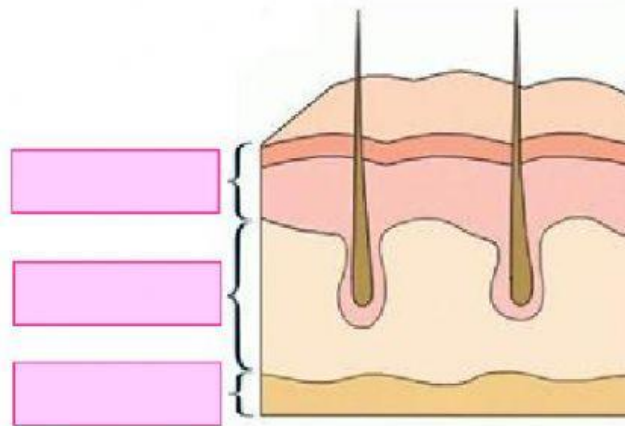
c) Tímpano

11. Observa la siguiente imagen y coloca los nombres de las capas de la piel.

dermis

hipodermis

epidermis



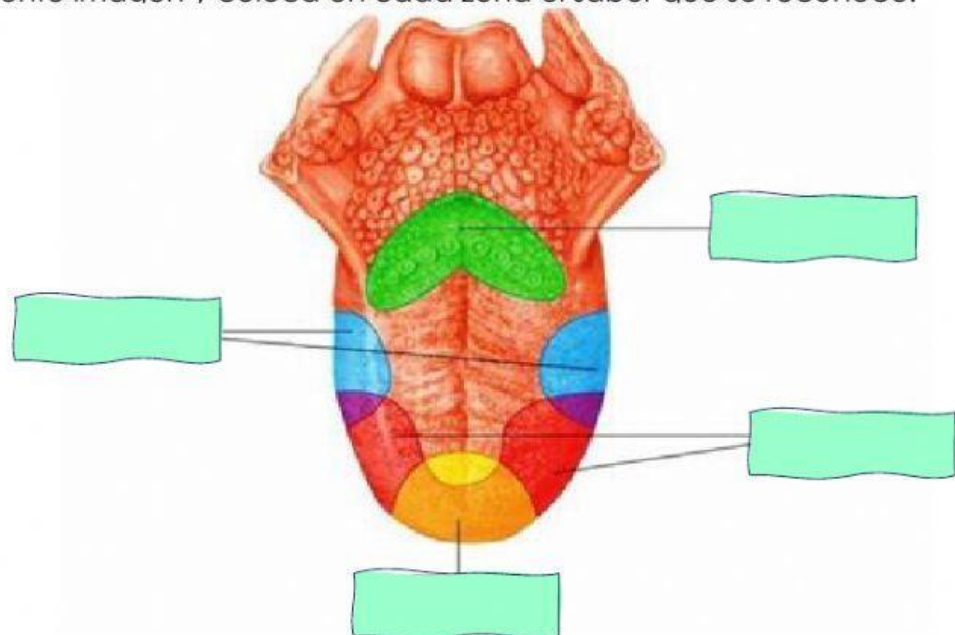
12. Observa la siguiente imagen y coloca en cada zona el sabor que se reconoce.

Salado

Dulce

Amargo

Ácido



13. En las extremidades superiores están:

a) Los pies

b) Las piernas

c) Los codos

14. El tobillo forma parte de:

a) Las extremidades superiores

b) Las extremidades inferiores

c) El tronco

15. Lee los siguientes cuidados y escribe:

G si corresponde al **gusto**

V si corresponde a la **vista**

T si corresponde al **tacto**

O si corresponde al **olfato**

Oí si corresponde al **oído**

Usar una luz adecuada para trabajar.	
No exponerse a temperaturas muy altas o bajas.	
Evitar introducir objetos extraños en el canal auditivo.	
Evitar los olores muy fuertes.	
Limpiar constantemente con enjuagues bucales y cepillados.	

16. Relaciona las columnas.

Cabeza

Tronco

Extremidades
superiores

Extremidades
inferiores

Brazo, codo,
muñeca

Muslo,
rodilla, pierna

Abdomen,
espalda, pecho

Ojos, boca,
cráneo