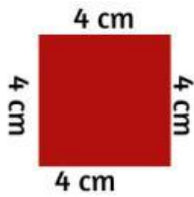



Lembar Kegiatan Peserta Didik

Jodohkan hasil operasi hitung keliling bangun datar berikut!

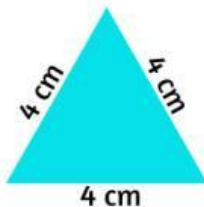
**MERDEKA
BELAJAR**



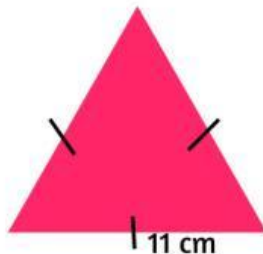
32 cm



12 cm



16 cm



33 cm

Tuliskan nama anggota kelompok dan berikan ceklis, berikut:

1. _____
2. _____
3. _____
4. _____
5. _____

Membantu
Mengerjakan
LKPD

Memberikan
pendapat
saat diskusi

Memahami
keliling
bangun datar