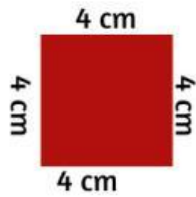



# Lembar Kegiatan Peserta Didik

Jodohkan hasil operasi hitung keliling bangun datar berikut!

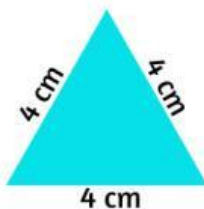
**MERDEKA  
BELAJAR**



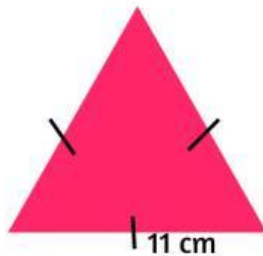
32 cm



12 cm



16 cm



33 cm

Tuliskan nama anggota kelompok dan berikan ceklis, berikut:

1. \_\_\_\_\_
2. \_\_\_\_\_
3. \_\_\_\_\_
4. \_\_\_\_\_
5. \_\_\_\_\_

Membantu  
Mengerjakan  
LKPD

Memberikan  
pendapat  
saat diskusi

Memahami  
keliling  
bangun datar