










EXAMEN DE PRIMER TRIMESTRE

1.- Cuente y escriba el número de elementos que hay en cada conjunto.

 <input type="text"/>	 <input type="text"/>	 <input type="text"/>
 <input type="text"/>	 <input type="text"/>	 <input type="text"/>

2.- Completa las siguientes secuencias numérica ascendente y descendente.



3.- Marca el número anterior y el número posterior, según corresponda.

Nº anterior	Número	Nº posterior
32	35	36
31		38
34		37

Nº anterior	Número	Nº posterior
61	67	65
66		70
68		68

4.- Resuelva las siguientes sumas.

$$\begin{array}{r} 21 \\ + 45 \\ \hline \end{array}$$

$$\begin{array}{r} 33 \\ + 46 \\ \hline \end{array}$$











$$\begin{array}{r} 23 \\ + 55 \\ \hline \end{array}$$

$$\begin{array}{r} 62 \\ + 37 \\ \hline \end{array}$$

$$\begin{array}{r} 57 \\ + 30 \\ \hline \end{array}$$

$$\begin{array}{r} 36 \\ + 52 \\ \hline \end{array}$$

5.- Cuente y realice las sumas con objetos.

 +  =	
 +  =	
 +  =	
 +  =	
 +  =	