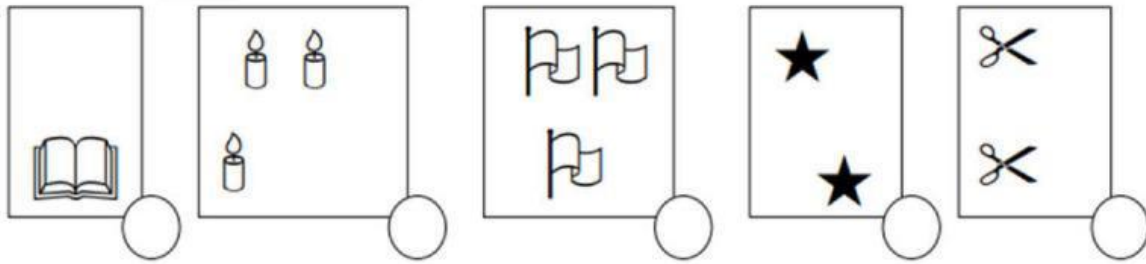




Họ và tên: Lớp:

TUẦN 1

Bài 1: Số?



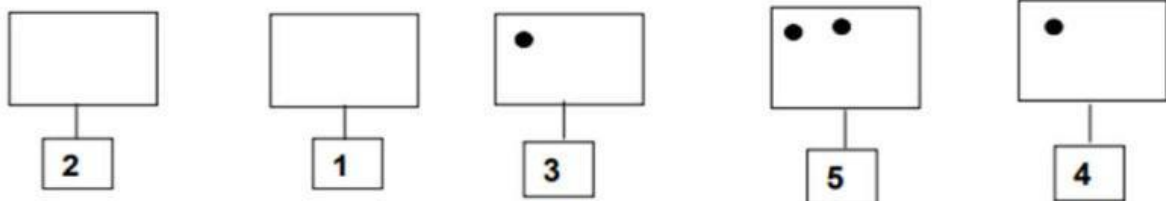
Bài 2: Số

1		3		
---	--	---	--	--

	2			5
--	---	--	--	---

5				1
---	--	--	--	---

Bài 3: Vẽ thêm cho đủ:

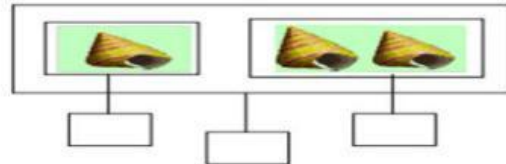
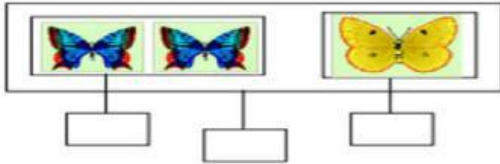
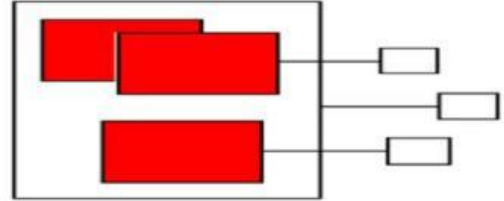
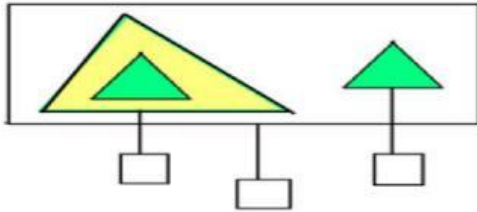


Làm bài cẩn thận con nhé!

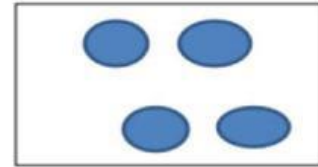
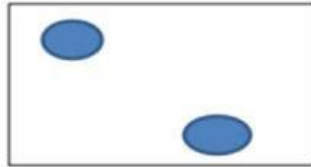


Họ và tên: Lớp:

Bài 4: Số?



Bài 5: Vẽ tiếp để mỗi ô trống có kết quả bằng 5:



Bài 6: Quan sát hình và cho biết:



Có con bướm

Có sư tử

Có con khỉ

Có voi

Bức tranh có tất cả loài vật.

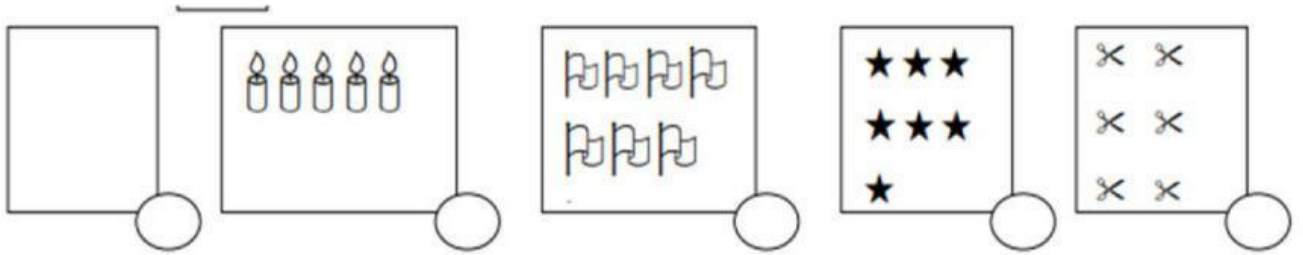
Làm bài cẩn thận con nhé!



Họ và tên: Lớp:

TUẦN 2

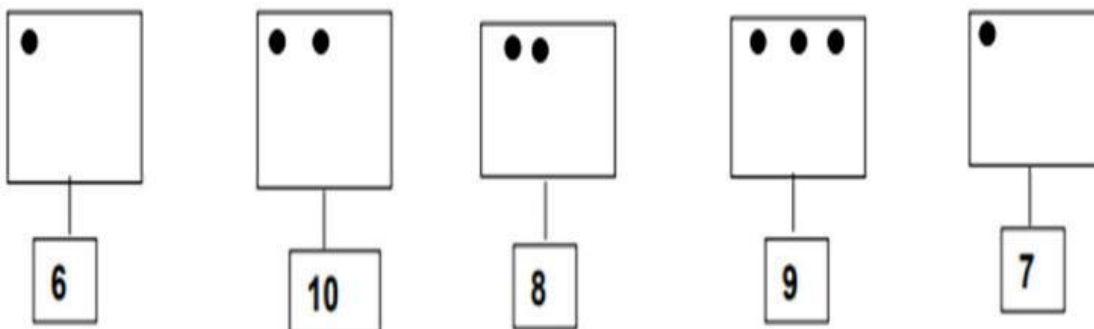
Bài 1: Số?



Bài 2: Số?

0		2		4				8		
10	9		7		5			2		0
	9		7	6			3			0
10		8			5				1	

Bài 3: Vẽ thêm cho đủ:

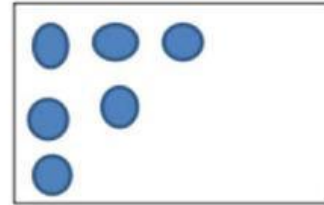
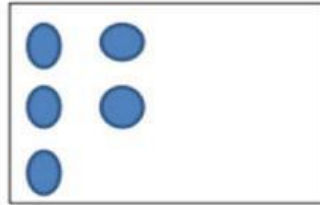


Làm bài cẩn thận con nhé!



Họ và tên: Lớp:

Bài 4: Vẽ thêm các hình tròn để mỗi ô vuông có kết quả bằng 10:



Bài 5: Cho thêm cá vào bình để trong bình có 7 con cá:

a: 4 con

b: 5 con

c: 6 con



Bài 6: Điền số thích hợp vào chỗ chấm:

- Số liền sau của số 2 là:
- Số liền trước của số 4 là:
- Số liền sau của số 5 là:
- Số nằm giữa số 3 và số 5 là:

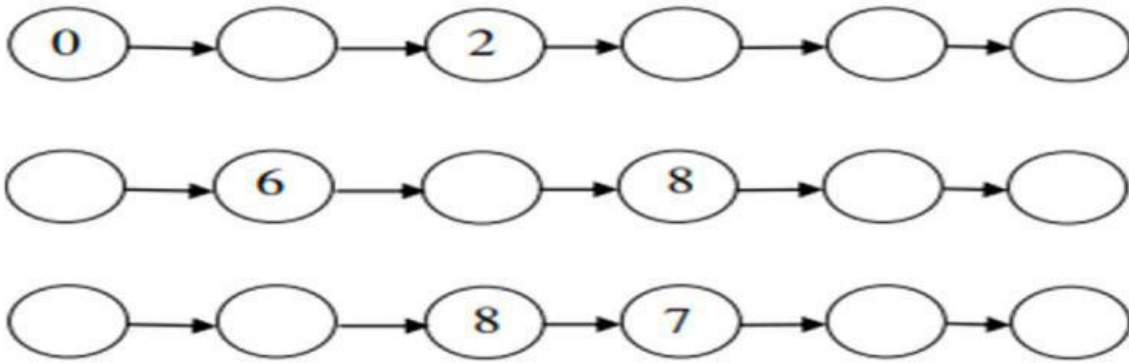
Làm bài cẩn thận con nhé!



Họ và tên: Lớp:

TUẦN 3


Bài 1: Số?



Bài 2: Khoanh vào các chùm bóng có số lượng nhiều hơn 5.




Bài 3: Đánh dấu x vào ô trống trước loại quả có số lượng nhiều nhất:



Làm bài cẩn thận con nhé!



Bài 4: Khoanh tròn vào các bộ trang phục có số lượng chấm tròn ít hơn 10 nhưng lớn hơn 7.



Bài 5: Khoanh vào:

a: Số lớn nhất: 9, 10, 4, 6, 5, 0

b: Số bé nhất: 7, 8, 2, 5, 9, 6, 1

Bài 6*: Quan sát hình, điền số thích hợp vào chỗ chấm:



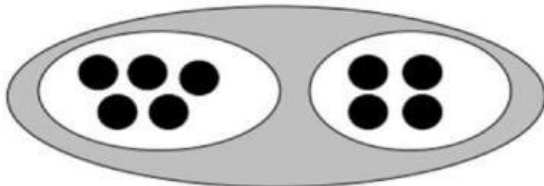
Làm bài cẩn thận con nhé!



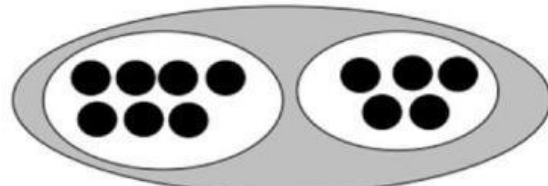
Họ và tên: Lớp:

TUẦN 4

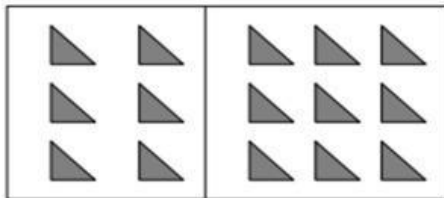
Bài 1: Điền dấu theo mẫu:



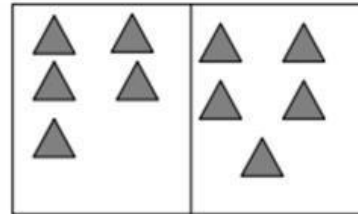
5	>	4
---	---	---



--	--	--



--	--	--



--	--	--

Bài 2:

> : < : =

6 8

5 4

9 4

6 6

7 ... 7

3 5

4 4

0 1

3 0

3 6

2 7

4 ... 8

Bài 3: Đúng ghi đ, sai ghi s vào ô trống:

5 > 2

4 < 5

3 < 2

1 > 5

Làm bài cẩn thận con nhé!



Họ và tên: Lớp:

Bài 4: Sắp xếp các số sau: 7; 2; 9; 0; 5

a: Theo thứ tự từ bé đến lớn:

b: Theo thứ tự từ lớn đến bé:

Bài 5 *: Số?

$2 > \dots\dots$	$5 < \dots\dots$	$9 > \dots\dots$	$5 = \dots\dots$	$8 < \dots\dots$
$1 > \dots\dots$	$3 = \dots\dots$	$6 > \dots\dots$	$4 < \dots\dots$	$7 > \dots\dots$
$2 < \dots\dots < 4$	$0 < \dots\dots < 2$	$9 > \dots\dots > 7$	$8 > \dots\dots > 6$	$5 > \dots\dots > 2$

Làm bài cẩn thận con nhé!



TRƯỜNG TIỂU HỌC, THCS & THPT
ALBERT EINSTEIN



Họ và tên: Lớp:

Làm bài cẩn thận con nhé!



TRƯỜNG TIỂU HỌC, THCS & THPT
ALBERT EINSTEIN



Họ và tên: Lớp:

Làm bài cẩn thận con nhé!



TRƯỜNG TIỂU HỌC, THCS & THPT
ALBERT EINSTEIN



Họ và tên: Lớp:

Làm bài cẩn thận con nhé!



TRƯỜNG TIỂU HỌC, THCS & THPT
ALBERT EINSTEIN



Họ và tên: Lớp:

Làm bài cẩn thận con nhé!