



-اسم الطالبة:

-الصف السادس:

-التاريخ:

### نشاط (١)

### نظام الأرض والشمس والقمر

أن تكتسب الطالبة قدرا مناسب من المعارف العلمية حول الظواهر الفلكية لتكون

10
----

### السؤال الأول:

أاكتب المصطلح المناسب ، في الفراغ للتعريف الصحيح ؟


المد	الجاذبية	الخسوف	الكسوف	أطوار	الفوهات	الكون	الفلك
------	----------	--------	--------	-------	---------	-------	-------

- ١- ..... هو علم يختص بدراسة الكون.
- ٢- ..... كل ما هو موجود في الفضاء .
- ٣- ..... هي حفر على شكل صحون عميقة ناتجة من اصطدام الأجرام السماوية الفضائية بسطح القمر.
- ٤- ..... هو شكل القمر الذي نراه ليلا.
- ٥- ..... هي ظاهرة وقوع القمر بين الأرض والشمس.
- ٦- ..... هي ظاهرة وقوع الأرض بين القمر والشمس.
- ٧- ..... قوة شد أو سحب تنشأ بين جميع الأجسام.
- ٨- ..... ارتفاع منسوب الماء وانخفاضه على طول الشاطئ.

ب-حددي معالم سطح القمر الموضحة في كل شكل، بكتابة اسم المعلم أسفل الشكل؟



--



--



--

/ مديرة المدرسة: أرشا خميس محمد

/ المديرة المساعدة: أمي السويدي

إعداد م.أ. أسعاد عطية



### متابع

### السؤال الثاني:

أرتبي أطوار القمر الترتيب الصحيح من ١ إلى ٨؟



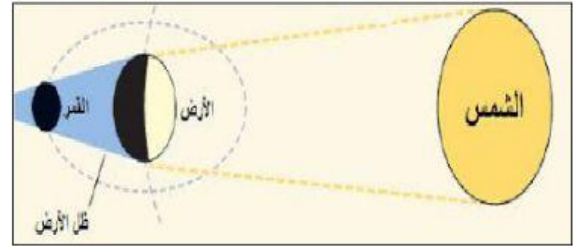
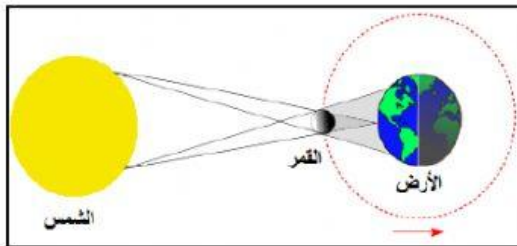
ب-فسري العبارات العلمية الاتية؟

١-سبب رؤيتنا وجه واحد للقمر.

١-حدوث ظاهرة المد والجزر بسبب؟

### السؤال الثالث:

صنفي الصور التالية إلى كسوف الشمس وخسوف القمر؟



.....

.....

مديرة المدرسة: أرشا خميس محمد

المديرة المساعدة: أمي السويدي

إعداد م.أ. أسعاد عطية