


Lembar Kerja Peserta Didik (LKPD)
Materi Ciri-ciri Makhluk Hidup

Nama :

Kelas :

Tentukan pasangan antara gambar dan ciri-ciri makhluk hidup yang sesuai



Bernapas

Memerlukan Makanan
dan Minuman

Bergerak


Tumbuh dan
Berkembang

Berkembang Biak
(Reproduksi)

Peka terhadap
Rangsang

Tentukan gambar berikut termasuk makhluk hidup atau benda tak hidup

BENDA HIDUP DAN BENDA BUKAN HIDUP



benda hidup

benda bukan hidup



benda hidup

benda bukan hidup



benda hidup

benda bukan hidup



benda hidup

benda bukan hidup



benda hidup

benda bukan hidup



benda hidup

benda bukan hidup



benda hidup

benda bukan hidup



benda hidup

benda bukan hidup



benda hidup



benda bukan hidup



benda hidup

benda bukan hidup

Susunlah gambar-gambar berikut menjadi siklus pertumbuhan dan perkembangan pada tumbuhan



Simaklah video di bawah ini!



Buat kesimpulan apa yang kalian simak dibawah ini!

A large, empty rectangular box with a light blue border and a subtle drop shadow. It is positioned centrally below the text prompt, intended for the user to write their conclusion.