

LEMBAR KERJA PESERTA DIDIK

PENYAJIAN DATA



Nama

Kelas

No. Absen

Petunjuk pengerjaan LKPD



1. Berdoalah terlebih dahulu sebelum mengerjakan!
2. Isilah identitas yang tertera diatas
3. Kerjakan soal sesuai dengan instruksi yang diberikan
4. Apabila sudah selesai mengerjakan seluruh soal, cek kembali semua yang telah dikerjakan.
5. Klik tombol FINISH
6. Kemudian ketik nama lengkap, kelas/nomor absen (group/level) dan ketik "Penyajian Data" pada bagian subject kemudian klik send
7. Screenshoot seluruh hasil jawaban kalian sebagai bukti telah mengerjakan dan untuk dipelajari lagi.



1

Pasangkan pernyataan pada kotak dibawah ini ke pengertian yang tepat pada tabel dengan cara menarik kotak tersebut ke tabel bagian kiri!



POPULASI

SAMPEL

DATA

STATISTIKA

DANTUM

| Jawaban | Pernyataan |
|---------|---|
| | Kumpulan Keterangan-keterangan atau fakta dari objek pengamatan |
| | Ilmu yang mempelajari cara atau metode pengumpulan data, penyajian data, pengolahan data sampai dengan penarikan kesimpulan |
| | Masing-masing keterangan dari sebuah data |
| | Kumpulan Siswa Dalam Satu sekola SMK Plus Al Mujahidi |
| | Siswa Kelas XII TBSM4 SMK Plus Al Mujahidi |

2

Isilah bagian yang kosong dibawah ini dengan tepat!

Jawab dengan angka, contoh : 9



Perhatikan data berat badan siswa kelas VII dibawah ini!

| | | | |
|----|----|----|----|
| 35 | 41 | 35 | 43 |
| 40 | 37 | 43 | 41 |
| 45 | 40 | 36 | 42 |
| 46 | 45 | 42 | 47 |
| 40 | 47 | 38 | 42 |
| 41 | 50 | 47 | 42 |
| | 47 | 46 | 49 |

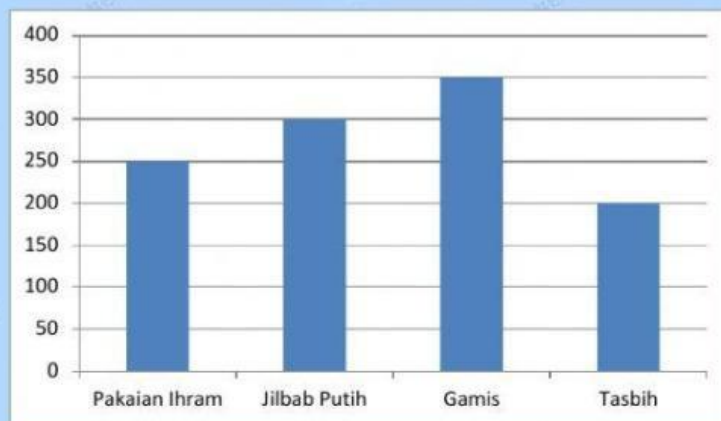
Sajikan data diatas dalam bentuk tabel !

| Berat Badan | Banyak Siswa |
|-------------|--------------|
| 35-40 | |
| 41-45 | |
| 46-50 | |
| Jumlah | 27 |

3

Pilihlah jawaban yang tepat dengan klik jawaban yang kamu pilih!

Mendekati keberangkatan haji, toko "Berkah Mulia" mendapatkan pesanan perlengkapan haji berupa pakaian ihram, Jilbab putih dan tasbih seperti pada diagram dibawah ini!



a. Berdasarkan data diatas, berapa seluruh pesanan perlengkapan haji yang diterima oleh toko "Berkah Mulia"?

A. 1100

B. 1300

C. 1200

D. 1400

b. Berapa selisih penjualan gamis dan pakaian ihram?

A. 140

C. 100

B. 150

D. 250

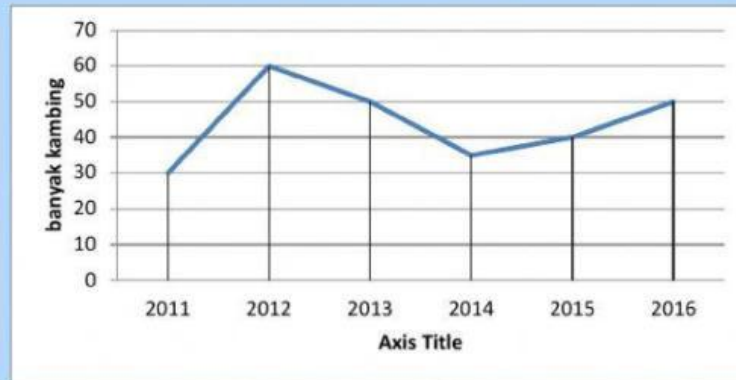


4

Jawablah pertanyaan dibawah ini dengan mengetikkan jawaban pada kolom isian!

Perhatikan diagram dibawah ini !

Berikut adalah data penjualan kambing di Peternakan Pak Anas :



a. Diagram diatas termasuk jenis diagram apa?

b. Pada tahun berapa penjualan kambing meningkat?

Serta sebutkan jumlah penjualan pada tahun tersebut!

c. Berapa jumlah penjualan kambing Pak Anas pada

tahun 2011 dan 2015?

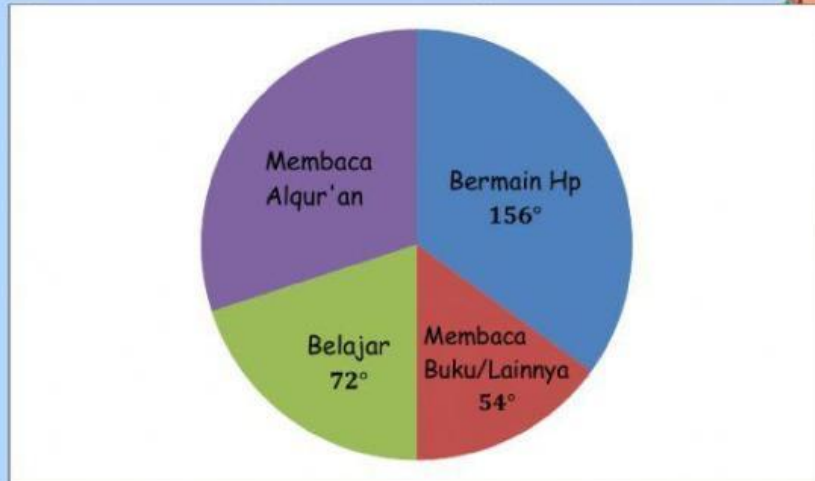


5

Jawablah pertanyaan dibawah ini dengan klik pernyataan benar/salah dan mengetikkan jawaban pada kolom isian!

Perhatikan diagram dibawah ini !

Berikut adalah data kegiatan waktu luang siswa kelas IV MTs Al-Mawaddah :



- a. Jika jumlah siswa kelas IV adalah 60 siswa, apakah benar apabila siswa yang mengisi waktu luang dengan membaca Alqur'an adalah 21 siswa?

Benar dong!

Salah lah!

- b. Berapa derajat untuk bagian membaca Alqur'an?

Tuliskan angkanya saja tanpa derajat!

