

Lembar Kerja Peserta Didik

LKPD

Pendidikan Ilmu Pengetahuan Alam
"Topik A: Cahaya dan Sifatnya"

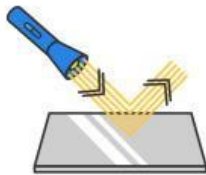


Nama Kelompok:

Kelas:

Cahaya

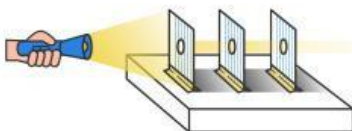
Pasangkanlah gambar dengan sifat-sifat cahaya berikut ini.



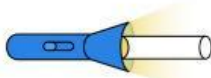
Merambat lurus



Bisa dipantulkan



Menembus benda bening



Bisa dibiaskan



Bisa diuraikan

Nama Kelompok: _____

Kelas: _____

Proses Melihat



Tulislah keterangan proses yang terjadi beserta nama bagian mata di kolom kosong pada gambar skema proses melihat di bawah ini!

