







1. Observa os sólidos da tabela e preenche-a de acordo com o exemplo.

| Sólido  | Poliedro | nome |
|---|----------|------|
|  | sim      | cubo |
|  |          |      |
|  |          |      |
|  |          |      |
|  |          |      |
|  |          |      |