



# LKPD LUAS BANGUN DATAR

Nama : .....

Kelas : .....

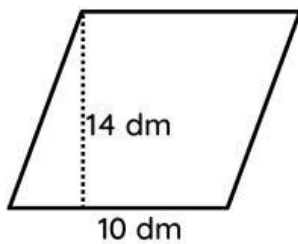
OLEH: KADEK BINTAN NOVI KUMALA SARI

Nama : .....

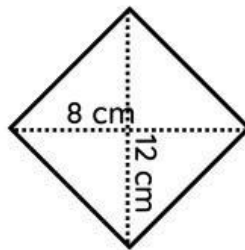
Kelas .....

## Menentukan Luas Bangun Datar

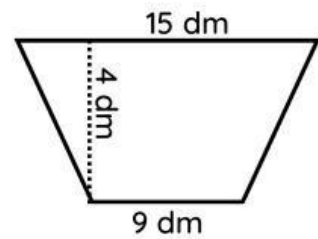
Tulislah hasil perhitungan luas bangun datar di bawah pada kolom yang sudah disediakan!



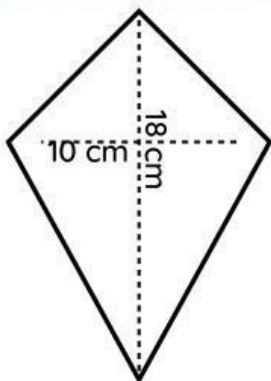
Luas = .....



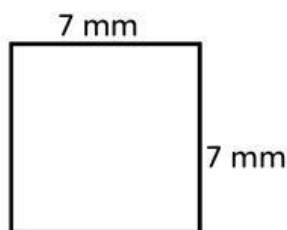
Luas = .....



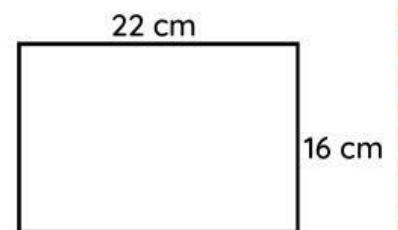
Luas = .....



Luas = .....



Luas = .....



Luas = .....

Nama : .....

Kelas .....

## Ayo Melakukan Ekplorasi

1. Carilah 3 bangun datar yang ada di sekitarmu
2. Ukurlah panjang, lebar dan tinggi bangun datar tersebut.
3. Kemudian hitunglah luas bangun datar yang kamu temui
4. Kemudian, tulis jawabanmu pada tabel berikut!

## Hasil Eksplorasi

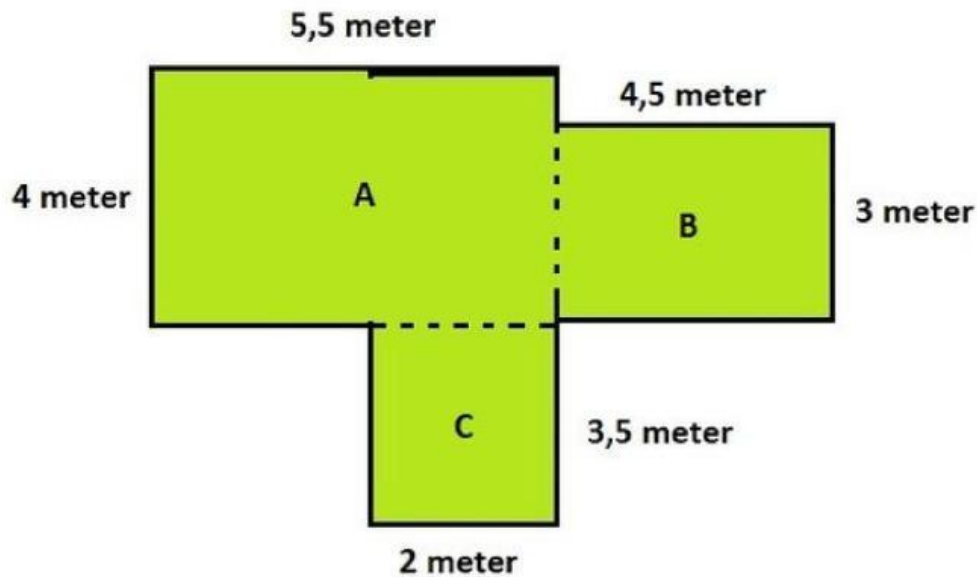
Nama Bangun Datar	Hasil Perhitungan Luas

Nama : .....

Kelas .....

## Menentukan Luas Bangun Datar

Tulislah hasil perhitungan luas bangun datar di bawah pada kolom yang sudah disediakan!



### Jawaban

Blank area for the answer.