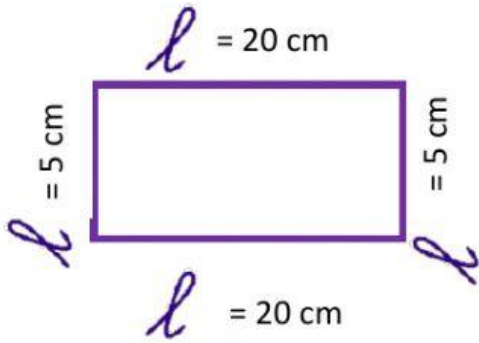


TRABAJO DE MATEMÁTICA

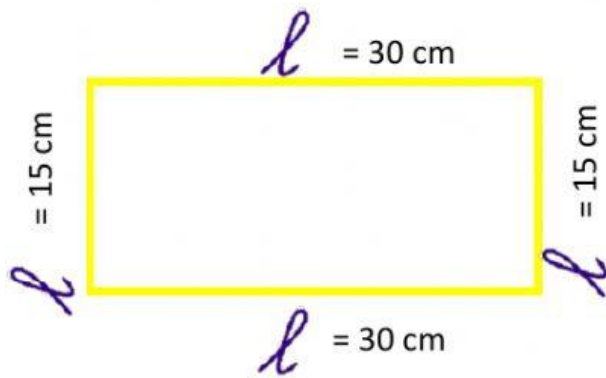
Escriba las fórmulas del perímetro en cada figura y encuentre el valor del perímetro.



$$P = l + l + l + l$$

$P =$

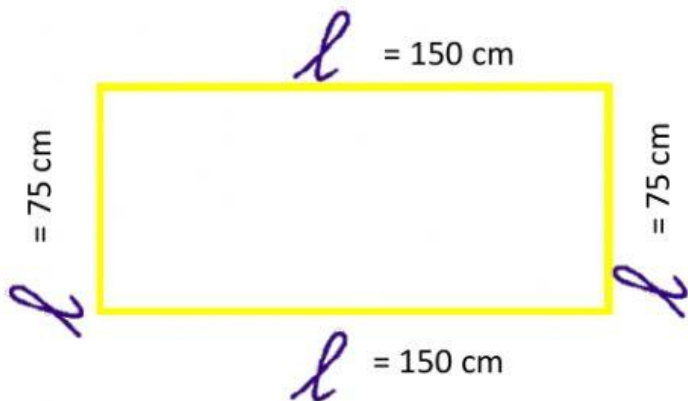
$P =$



$$P = l + l + l + l$$

$P =$

$P =$



$P =$

$P =$

$P =$