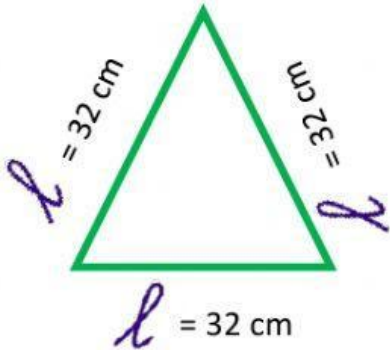


TRABAJO DE MATEMÁTICA

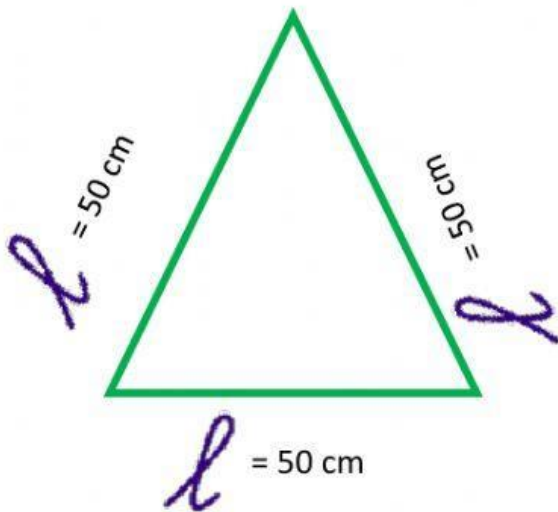
Escriba las fórmulas del perímetro en cada figura y encuentre el valor del perímetro.



$$P = l + l + l$$

$$P =$$

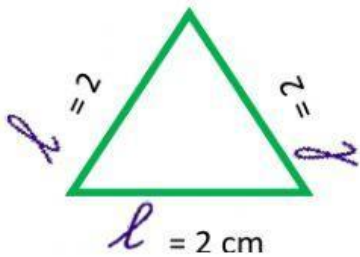
$$P =$$



$$P = l + l + l$$

$$P =$$

$$P =$$



$$P =$$

$$P =$$

$$P =$$

