



Kurikulum  
Merdeka

## Lembar Kerja Peserta Didik (LKPD)

# Kurikulum Merdeka Belajar



Nama Anggota kelompok:

- 1.
- 2.
- 3.

Workshop Liveworksheet

## Bilangan Bulat

Perhatikan Video Berikut!



Adapun Materi sebagai berikut



# Lembar Kerja Siswa



Halaman 85 - 86 Buku Siswa



**Ayo Berlatih**

## Latihan 1

Selesaikan soal di bawah ini dengan benar !

1.

$$7 + \dots = 15$$

2.

$$18 + \dots = 39$$

3.

$$\dots + 36 = 62$$



### Ayo Berlatih

1. Isilah titik-titik dengan tanda  $>$ ,  $<$ , atau  $=$ !

a.

378

.....

345

b.

189

.....

206

c.

938

.....

930

d.

739

.....

839

e.

275

.....

279

f.

705

.....

705



### Ayo Berlatih

1. Perhatikan gambar berikut dengan cermat!

Berilah tanda centang (✓) untuk benda yang tepat diukur dengan meteran!

.... • Lemari

.... • Meja

.... • Jendela

.... • Papan tulis

.... • Pintu

.... • Pintu

.... • Pensil

.... • Buku Tulis

.... • Sendok garpu

.... • Pagar





### Ayo Berlatih

A. Pilih jawaban yang benar.



**KL** adalah ....

- a. Garis   b. Ruas garis   c. Sinar garis   d. Kurva/garis lengkung



**PQ** adalah ....

- a. Garis   b. Ruas garis   c. Sinar garis   d. Kurva/garis lengkung



**MN** adalah ....

- a. Garis   b. Ruas garis   c. Sinar garis   d. Kurva/garis lengkung




**RS** adalah ....

- a. Garis   b. Ruas garis   c. Sinar garis   d. Kurva/garis lengkung


2. Isilah titik-titik di bawah ini, kemudian urutkan bilangan 537, 590, 518, dan 601 dari yang terkecil ke terbesar.

Bilangan	Ratusan	Puluhan	Satuan
537	...	...	...
590	...	...	...
518	...	...	...
601	...	...	...

Jadi, urutan bilangan 537, 590, 518, dan 601 dari yang terkecil ke terbesar sebagai berikut.



3. Urutkan bilangan 325, 235, 532, dan 352 dari yang terbesar ke terkecil.




4. Alfa memiliki 138 kelereng, Galih memiliki 103 kelereng, dan Andi memiliki 183 kelereng.
- Tuliskan urutan banyak kelereng yang dimiliki ketiga anak tersebut, dari jumlah yang paling sedikit!
  - Siapakah yang memiliki kelereng paling banyak?
  - Siapakah yang memiliki kelereng paling sedikit?

4. Pasangkan lambang bilangan dan cara membacanya dengan cara menarik garis lurus.



•

• Sembilan ratus lima puluh



•

• Sembilan ratus tiga



•

• Seratus empat puluh lima



•

• Enam ratus dua