

LKPD

BANGUN DATAR

Perhatikan video berikut ini:



Perhatikan materi presentasi berikut ini:



LKPD

BANGUN DATAR

1 TEKSFIELD

Bangun datar segi empat yang keempat sisinya sama panjang dan keempat sudutnya siku-siku atau 90° adalah

2 CHECK CHOICE

Berikut ini yang bukan merupakan bangun datar adalah.....

3 Checkboxes

Pernyataan yang benar adalah....

☐ Persegi memiliki 4 sisi ☐ lingkaran memiliki 6 sisi ☐ segitiga memiliki 3 sisi

4 Select

Nama bangun datar di bawah ini adalah...



LKPD

BANGUN DATAR

5

WORD SEARCH

Temukan 3 kata pada kotak berikut!

S	S	I	S	I
M	M	L	I	N
O	S	D	K	T
D	K	C	U	K
U	G	X	M	T

6

SPEAK

Sebutkan nama bangun datar berikut dengan tepat!



7

Listening

Dengarkan suara berikut dan tuliskan jawabannya dengan tepat!

LKPD




BANGUN DATAR



8

DRAG & DROP

Tentukan Rumus yang sesuai dengan gambar berikut!

	<input type="text"/>	<div>$L = \frac{1}{2} \times \text{alas} \times \text{tinggi}$</div> <div>$L = \text{panjang} \times \text{lebar}$</div> <div>$L = \pi \times r \times r$</div>
	<input type="text"/>	
	<input type="text"/>	

9

JOIN

Buatlah garis ke jawaban yang benar!

	<input type="text" value="Lingkaran"/>
	<input type="text" value="Segitiga"/>
	<input type="text" value="Persegi panjang"/>