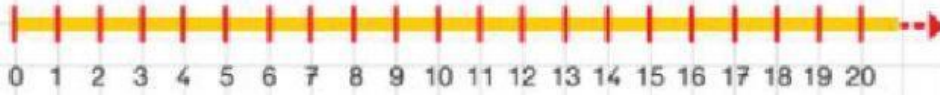



## ADDIZIONI ENTRO IL VENTI

1 Esegui le addizioni con l'aiuto della linea dei numeri.



$$15 + 3 =$$



$$19 + 1 =$$



$$11 + 2 =$$



$$12 + 3 =$$



## ADDIZIONI DA 0 A 20



1 Esegui le addizioni aiutandoti con la linea dei numeri.

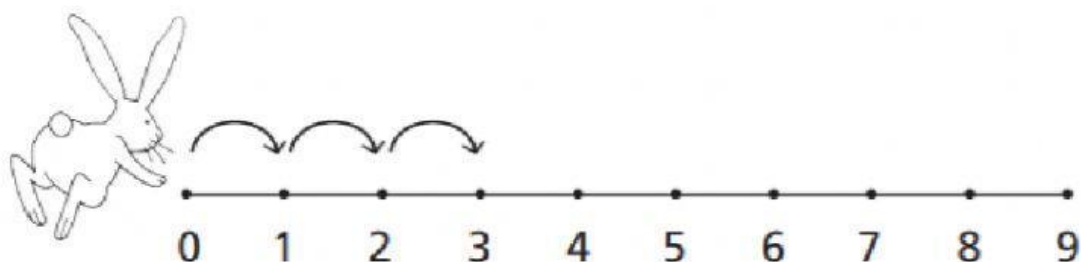


### La colazione di Coniglio Grigio

Coniglio Grigio fa 3 salti per arrivare alle piante di lattuga e poi ne fa altri 4 per arrivare alle carote.

Quanti salti ha dovuto fare per procurarsi la colazione?

Disegna le frecce che mancano e rispondi: a che numero è arrivato Coniglio Grigio? .....




### Provviste per l'inverno

È quasi ora di andare in letargo e Scoiattolina vuole contare le provviste che ha fatto oggi.

Ha trovato 4 ghiande e 3 nocciole.

Aiutala tu a fare il calcolo: scrivi i numeri che mancano sotto la linea, osserva dove arrivi e rispondi.



Scoiattolina oggi ha trovato ..... frutti per la sua provvista invernale.