



LKPD

BANGUN DATAR

Perhatikan video berikut ini :



Perhatikan materi presentasi berikut ini :



Materi



Materi

LKPD

BANGUN DATAR

1 TEKSFIELD

Bangun datar segi empat yang keempat sisinya sama panjang dan keempat sudutnya siku-siku atau 90° adalah...

2 SINGLE CHOICE

Berikut ini yang bukan merupakan bangun datar adalah...

3 CHECKBOXES

Pernyataan yang benar adalah...

☐ Persegi memiliki 4 sisi ☐ Lingkaran memiliki 6 sisi ☐ Segitiga memiliki 3 sisi

4 SELECT

Nama bangun datar di bawah ini adalah...



☐ Persegi

☐ Segitiga

☐ Persegi Panjang

☐ Lingkaran

LKPD

BANGUN DATAR

5 WORD SEARCH

Temukan 3 kata pada kotak di bawah ini

| | | | | |
|---|---|---|---|---|
| S | S | I | S | I |
| M | U | L | I | N |
| O | S | D | K | T |
| D | K | C | U | K |
| U | G | X | M | T |

6 SPEAK

Sebutkan nama bangun datar berikut dengan tepat!



7 LISTENING

Dengarkan suara berikut dan tuliskan jawabannya dengan tepat!



LKPD

BANGUN DATAR

8

DRAG & DROP

Tentukan rumus yang sesuai dengan gambar.



$$L = \frac{1}{2} \times \text{alas} \times \text{tinggi}$$



$$L = \text{Panjang} \times \text{lebar}$$



$$L = \pi \times r \times r$$

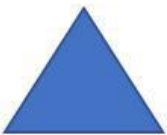
9

JOIN

Buatlah garis ke jawaban yang benar.



Persegi Panjang



Lingkaran



Segitiga