


LKPD

BANGUN DATAR

Perhatikan video berikut ini



Perhatikan materi presentasi berikut ini



MATERI



MATERI

1

TEKSFIELD

bangun datar segi empat yang komposisinya sama panjang dan tempat sudutnya siku-aiku atau 90 adalah

2

SINGLE CHOICE

Berikut ini yang bukan merupakan bangun datar adalah

3

CHECKBOXIES

Pernyataan yang benar adalah

☐

Persegi memiliki 4 sisi

☐

lingkaran memiliki 6 sisi


☐

Segitiga memiliki 3 sisi

4

SELECT

Nama bangun datar di bawah ini adalah...



Persegi



segitiga



Persegi panjang



lingkaran

LKPD BANGUN DATAR

5

WORD SEARCH

Temukan 3 kata pada kotak di bawah ini

s	s	i	s	i
m	u	l	i	n
o	s	d	k	t
d	k	c	u	k
u	g	x	m	t

6

SPEAK


Sebutkan nama bangun datar berikut dengan tepat



7

LISTENING

Dengarkan suara berikut dan tuliskan jawabannya dengan tepat



8

Drag and drop

Tentukan rumus yang sesuai dengan gambar



<input type="text"/>
<input type="text"/>
<input type="text"/>

9

Join

Buatlah garis ke jawaban yang benar



Persegi panjang



lingkaran



segitiga