

## LEMBAR KERJA PESERTA DIDIK (LKPD)

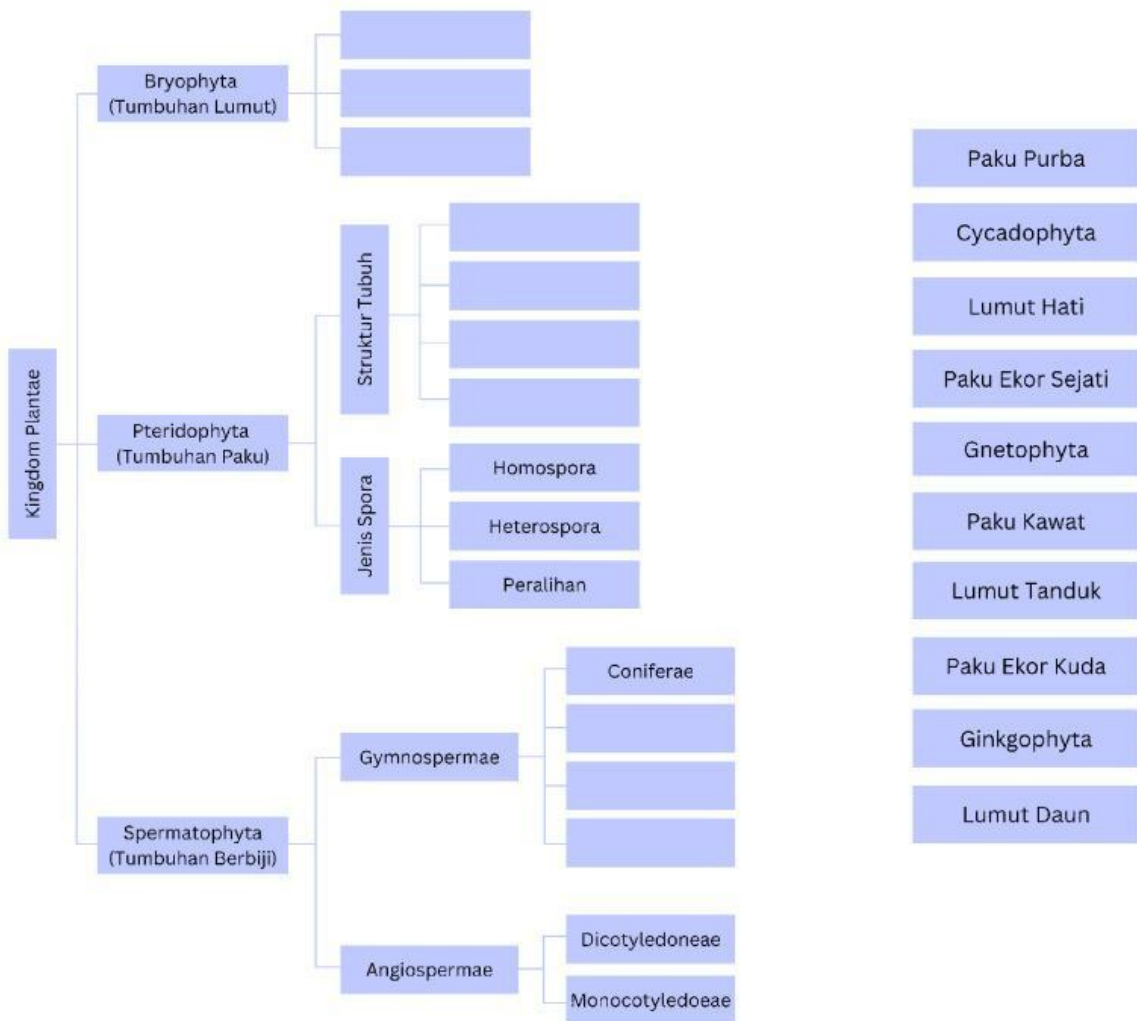
### KINGDOM PLANTAE

Nama : .....











Kelas : .....

No. Absen : .....

Drag & Drop



Textfield

Keping Biji	Tulang Daun	Batang	Bunga	Akar
<b>Monocotyledoneae</b>  Satu kotiledon			 Bagian perhiasan bunga hanya terdiri dari	 Sistem akar serabut
<b>Dicotyledoneae</b> 	 Tulang daun menyirip atau menjari		 Bagian perhiasan bunga terdiri dari	

Pembeda	Gymnospermae	Angiospermae
Akar	Tunggal	Tunggal, Serabut
Batang	Berkambium	
Daun		Umumnya berdaun lebar, tunggal, mejemuk
Bunga		Bunga sejati dan memiliki perhiasan bunga
Bakal Biji	Terbuka, tidak ditutupi bakal buah	
Buah		Ada, berkembang dari bakal buah
Pembuahan	Tunggal	Ganda
Penyerbukan	Dibantu angin	

Description

1. Sebutkan ciri umum Kingdom Plantae!

Jawab:

.....  
.....  
.....  
.....  
.....

2. Sebutkan ciri-ciri tumbuhan lumut dan paku, masing-masing minimal 5!

Jawab:

.....  
.....  
.....  
.....  
.....

3. Sebutkan masing-masing 3 tumbuhan paku berdasarkan dari jenis sporanya!

Jawab:

.....  
.....  
.....  
.....  
.....

4. Sebutkan masing-masing 3 tumbuhan berbiji Gymnospermae!

Jawab:

.....  
.....  
.....  
.....  
.....

5. Sebutkan masing-masing 5 tumbuhan monokotil dan dikotil!

Jawab:

.....  
.....  
.....  
.....  
.....