

LKPD

BANGUN DATAR

Perhatikan video berikut ini !



Perhatikan materi presentasi berikut ini !



LKPD

BANGUN DATAR

1

TEKSFIELD

Bangun datar segi empat yang keempat sisinya sama panjang dan keempat sudutnya siku-siku atau 90° adalah.....

2

SINGLE CHOICE

Berikut yang bukan merupakan bangun datar adalah...

3

CHECKBOXES

Pernyataan yang benar adalah....

☐

Persegi memiliki 4 sisi

☐

Lingkaran memiliki 6 sisi

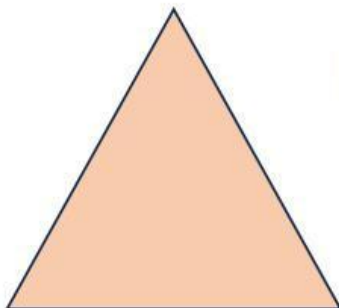
☐

Segitiga memiliki 3 sisi.

4

SELECT

Nama bangun datar di bawah ini adalah....

☐

Persegi

☐

Segitiga

☐

Persegi Panjang

☐

Lingkaran

5

WORD SEARCH


Temukan 3 kata pada kotak di bawah ini.

S	S	I	S	I
M	U	L	I	N
O	S	D	K	T
D	K	C	U	K
U	G	X	M	T

6

SPEAK

Sebutkan nama bangun datar berikut dengan tepat !.



7

LISTENING.


Dengarkan suara berikut dan tuliskan jawabannya dengan tepat!.



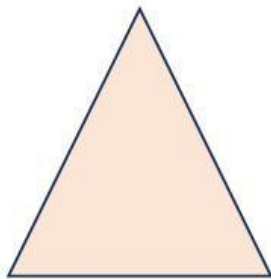
8

DRAG AND DROP

Tentukan rumus yang sesuai dengan gambar.



$$L = \frac{1}{2} \times \text{Alas} \times \text{Tinggi}$$



$$L = \text{Panjang} \times \text{lebar.}$$



$$L = \pi \times r \times r.$$