

LKPD

BANGUN DATAR

Perhatikan video ini:



Perhatikan materi persentasi berikut ini:



Materi



Materi



LKPD

BANGUN DATAR

1. TEKSFIELD

Bangun datar segi empat yang keempat sisinya sama panjang dan keempat sudutnya siku-siku atau 90° adalah...

2. SINGEL CHOICE

Berikut ini yang bukan merupakan bangun datar adalah..

3. CHECKBOXES

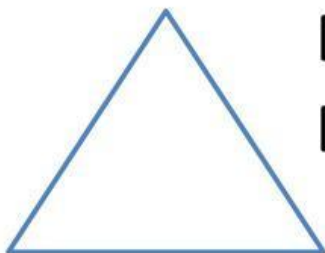
Pernyataan yang benar adalah...



☐ Persegi memiliki empat sisi ☐ Lingkaran memiliki 6 sisi ☐ Segitiga memiliki 3 sisi

4. SELECT

Nama bangun datar dibawah ini adalah...




☐ Persegi. ☐ Segitiga.
☐ Lingkaran. ☐ Kubus.



5. WORD SEARCH

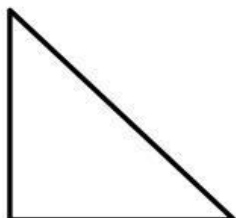
Temukan 3 kata pada kotak dibawah ini...

S	S	I	S	I
M	U	L	I	N
O	D	J	K	T
D	U	C	U	K
U	T	X	M	T



6. SPEAK

Sebutkan nama bangun datar berikut dengan tepat!



7. LISTENING

Dengarkan suara berikut dan tuliskan jawabannya dengan tepat!



8. DRAG & DROP

Tentukan rumus yang sesuai dengan gambar.



$$L = 1/2 \times \text{alas} \times \text{tinggi}$$

$$L = \text{Panjang} \times \text{Lebar}$$

$$L = \pi \times r \times r$$

