

# Unidad Educativa Cleopatra

## Matemáticas

Nombre \_\_\_\_\_

Observé el precio de los siguientes productos



\$10



\$34



\$19



\$55



\$18



\$25



\$42



\$79

Escribe lo que se debe pagar por los siguientes alimentos



**Resuelve mentalmente cada operación**

$52 + \square = 143$

$62 - \square = 0$

$\square + 64 = 144$

$\square - 27 = 43$

$97 + \square = 120$

$79 - \square = 66$

$65 + 78 = \square$

**Realiza las siguientes operaciones**

$8 \times 6 =$  

$5 \times 9 =$  

$5 \times 3 =$  

$10 \times 6 =$  

$8 \times 3 =$  

$7 \times 8 =$  

$6 \times 4 =$  

$5 \times 4 =$  

**Fracciones , une las correctas**

$\frac{1}{4}$

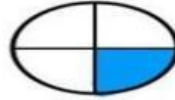
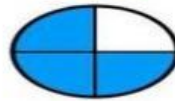
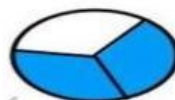
$\frac{2}{6}$

$\frac{2}{7}$

$\frac{3}{4}$

$\frac{4}{5}$

$\frac{2}{3}$



Marca el resultado correcto

<b>6 x 6</b>		
30	26	36

<b>3 x 5</b>		
13	15	20

<b>7 x 8</b>		
53	56	58

<b>2 x 9</b>		
18	19	16

<b>8 x 4</b>		
26	34	32

<b>7 x 7</b>		
54	49	63

<b>3 x 4</b>		
13	12	14

<b>9 x 7</b>		
63	72	54

<b>2 x 0</b>		
2	1	0

<b>5 x 8</b>		
45	35	40

<b>8 x 8</b>		
64	68	72

<b>7 x 3</b>		
23	28	21