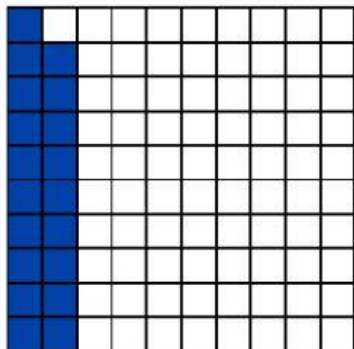
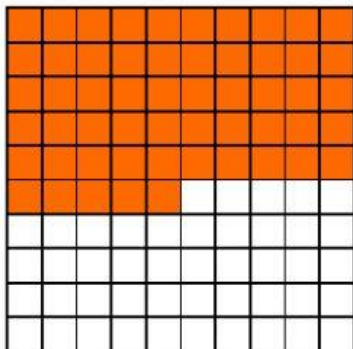
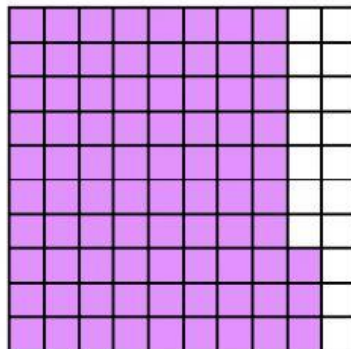


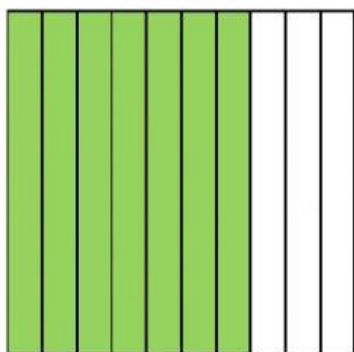
NÚMEROS DECIMALES

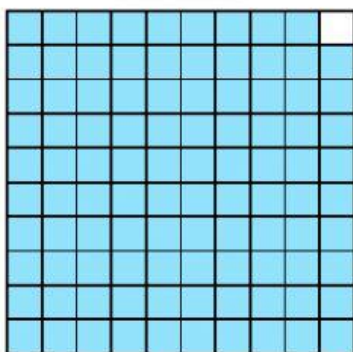
1. Escribe la parte sombreada en número decimal:

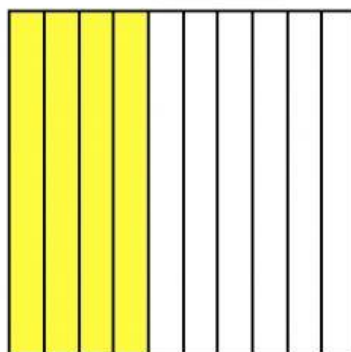












2. Escribe el número:

a) Tres unidades y cinco milésimas

b) Treinta y dos unidades y cuarenta y dos centésimas

c) Mil tres unidades y una décima

d) Doce unidades y ciento veinticuatro milésimas

e) Setenta y cuatro mil unidades y nueve décimas

f) Tres décimas

g) Cuatro milésimas

h) Ciento tres milésimas

i) Doce décimas