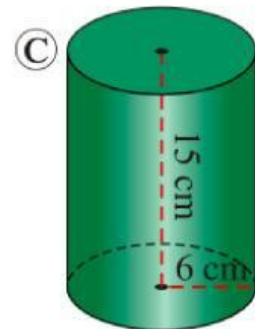
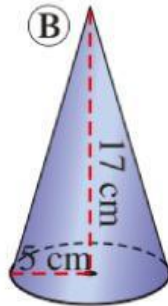
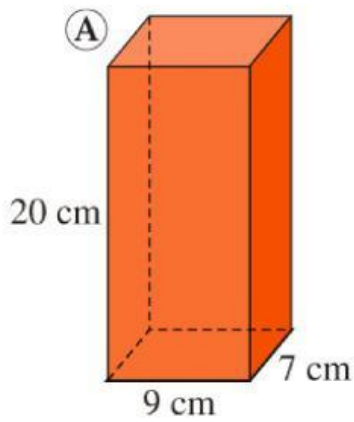
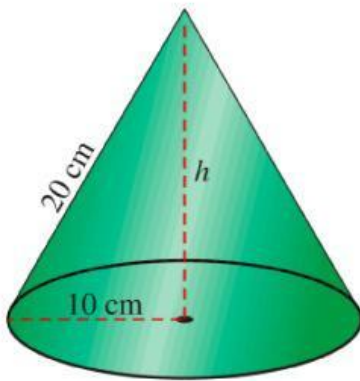


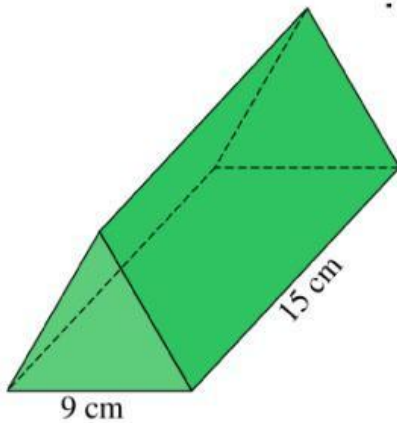
1. Calcula el volumen de estos cuerpos:



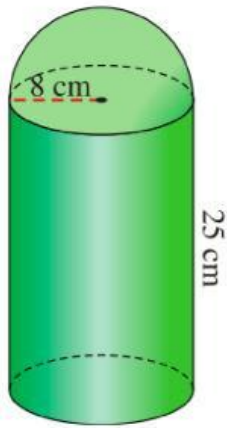
2. Calcula el volumen de un cono cuya generatriz mide 20 cm y el radio de su base es de 10 cm.



3. Halla el volumen de este prisma cuyas bases son triángulos equiláteros:



4. Teniendo en cuenta las medidas señaladas, calcula el volumen de esta figura:



5. Un florero con forma cilíndrica tiene un diámetro interior de 12 cm y su altura es de 25 cm. Queremos llenarlo hasta los  $\frac{2}{3}$  de su capacidad. ¿Cuántos litros de agua necesitamos?

