

# Lembar Kerja Peserta Didik (LKPD)

Sekolah : SMPN 5 Meurueobo  
Kelas/ Semester : 7/Ganjil  
Mata Pelajaran : Matematika  
Materi : Bilangan Positif dan Negatif

## Tujuan Pembelajaran:

1. Menentukan Besaran bilangan positif dan negatif dengan titik acuan 0 secara benar.
2. Membandingkan bilangan positif dan negatif, bersamaan dengan mengetahui bahwa kisaran bilangan yang dapat direpresentasikan telah diperluas dengan pengenalan bilangan negative secara tepat.

Nama Kelompok : .....

Anggota :

1.....

2.....

3.....

4.....

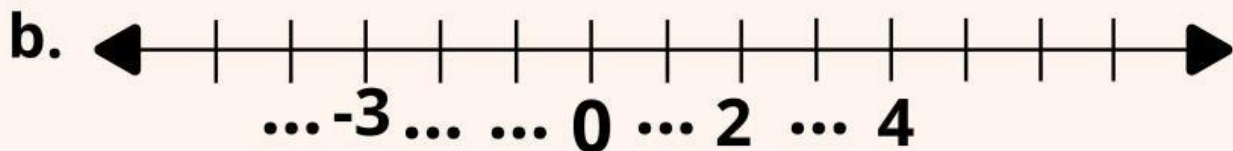
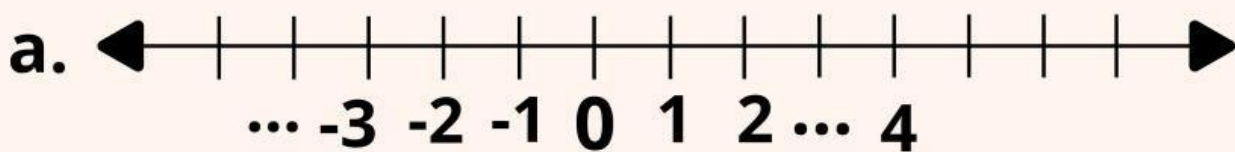


**Sebelum Mengerjakan tugas dibawah ini simaklah video berikut ini**



**Jawablah soal berikut dengan jawaban yang benar**

**1. Lengkapi garis bilangan dibawah ini**



**2. Urutkan bilangan berikut**

**-3,-1,-2,-4,0,1**

Urutan dari terkecil :

Urutan dari terbesar :

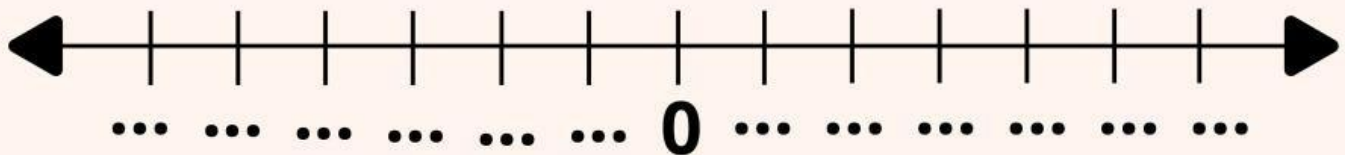
**-5,-2,-8,1,0,4**

Urutan dari terkecil :

Urutan dari terbesar :

### 3. Membandingkan bilangan

1. Isilah angka garis bilangan dibawah ini sebelah kanan 0 sebanyak 6 dan sebelah kiri 0 sebanyak 6



2. Perhatikan gambar garis bilangan di atas
3. Bandingkan nilai dari tiap bilangan pada garis bilangan dengan melengkapi tabel berikut ini dengan tanda lebih besar ">" atau tanda lebih kecil "<"

Bilangan	Hubungan	Bilangan
-10	<	-9
-9	...	-8
-1	...	-2
-4	...	-6
0	...	1
2	...	0
6	...	8