

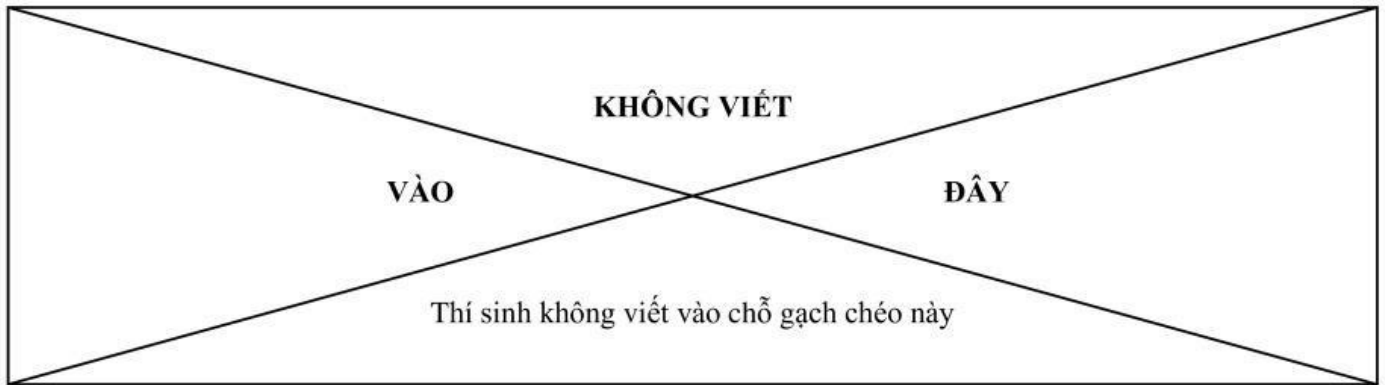
SỞ GIÁO DỤC VÀ ĐÀO TẠO THÀNH PHỐ HỒ CHÍ MINH <div style="border: 1px solid black; padding: 5px; text-align: center;"> ĐỀ CHÍNH THỨC </div> (Đề khảo sát gồm 04 trang)		KÌ KHẢO SÁT TUYỂN SINH VÀO LỚP 6 Khóa ngày 04 tháng 7 năm 2023 Khảo sát năng lực phần trắc nghiệm Thời gian làm bài: 30 phút (Không kể thời gian phát đề)		Số thứ tự bài khảo sát (do CB coi khảo sát ghi)
Họ và tên thí sinh: Trường: Số báo danh:		Họ tên và chữ ký CB coi KS số 1	Họ tên và chữ ký CB coi KS số 2	Túi phách (do CB làm phách ghi) Túi hoán vị (do CB làm phách ghi) Số phách
<div style="border: 1px solid black; padding: 5px; text-align: center;"> MÃ BÀI KHẢO SÁT: 647 </div>				

Dùng bút chì tô kín ô tròn tương ứng trong bảng trả lời với phương án trả lời được chọn. Khi muốn đổi phương án trả lời, thí sinh chỉ cần gôm (tẩy) sạch ô đã tô và tô lại ô tròn mới (mỗi câu trả lời đúng được 2 điểm).

KHÔNG trả lời bằng cách khoanh tròn ở đầu các câu đáp án trong phần đề dưới bảng trả lời.
Chỉ chấm điểm cho phần bài làm trong bảng trả lời.

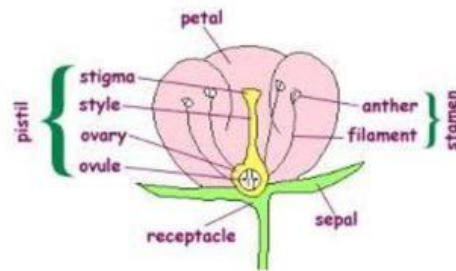
BẢNG TRẢ LỜI

Câu	Chọn lựa					Câu	Chọn lựa			
1	(A)	(B)	(C)	(D)		11	(A)	(B)	(C)	(D)
2	(A)	(B)	(C)	(D)		12	(A)	(B)	(C)	(D)
3	(A)	(B)	(C)	(D)		13	(A)	(B)	(C)	(D)
4	(A)	(B)	(C)	(D)		14	(A)	(B)	(C)	(D)
5	(A)	(B)	(C)	(D)		15	(A)	(B)	(C)	(D)
6	(A)	(B)	(C)	(D)		16	(A)	(B)	(C)	(D)
7	(A)	(B)	(C)	(D)		17	(A)	(B)	(C)	(D)
8	(A)	(B)	(C)	(D)		18	(A)	(B)	(C)	(D)
9	(A)	(B)	(C)	(D)		19	(A)	(B)	(C)	(D)
10	(A)	(B)	(C)	(D)		20	(A)	(B)	(C)	(D)



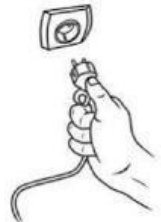
Question 1. Where is pollen stored in a flower?

- A. Petals
- B. Anthers
- C. Ovary
- D. Stigma



Question 2. Why is it dangerous to put a plug in the socket when it is wet?

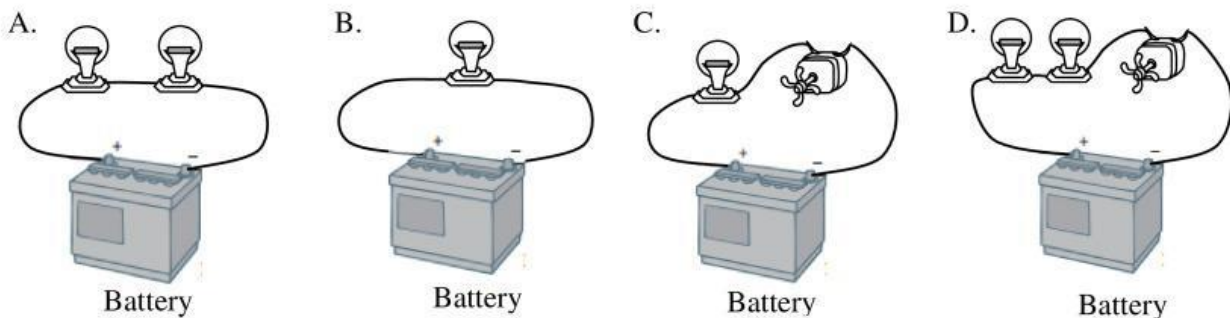
- A. Because it causes a fire due to the combination of water and electricity.
- B. Because it damages the electrical system as water affects the proper current of electricity.
- C. Because it causes an electric shock as water allows electricity to run through it.
- D. Because it causes the plug to malfunction as water prevents the current of electricity.



Question 3. The otter catches fish and birds for food, so it is called _____.

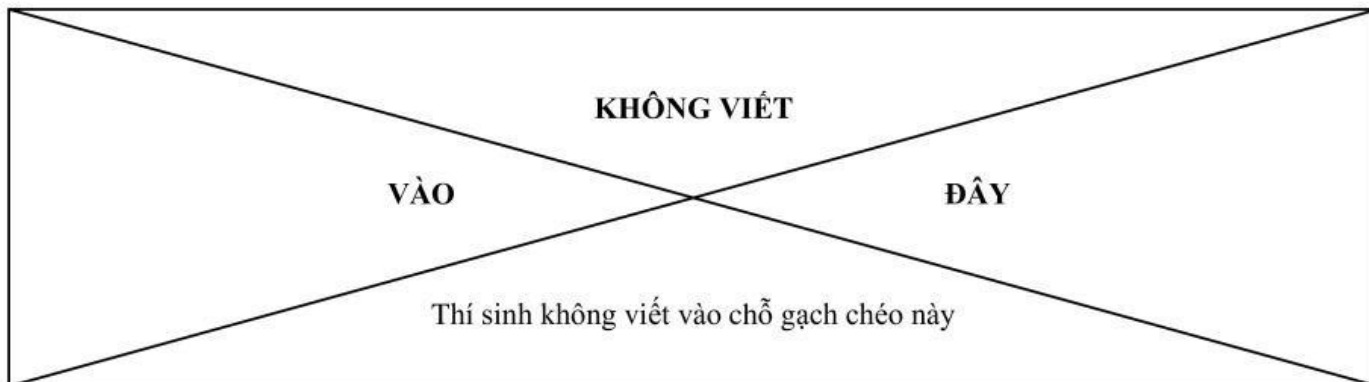
- A. a predator
- B. a prey
- C. a herbivore
- D. a producer

Question 4. There are different circuits using the same type of bulbs, fans and batteries. Point out which bulb in the following pictures is the brightest.



Question 5. I'd recommend this particular place for you to spend a weekend evening. In the middle of this area, you can see the beauty of the Sài Gòn river at one end, and a great statue in front of an ancient municipal building at the other end. It is so wonderful to leisurely walk in the exciting atmosphere and enjoy the street performances and snack here. This is also the place where big events are celebrated. This place is known as _____.

- A. Nhà Rồng wharf
- B. Bùi Viện walking street
- C. Nguyễn Huệ walking street
- D. Bạch Đằng wharf



Question 6. In about the year of 700 B.C., our country was called _____.

- A. Đại Việt B. Âu Lạc C. Đại Cồ Việt D. Văn Lang

Question 7. What is the primary source of energy for Planet Earth?

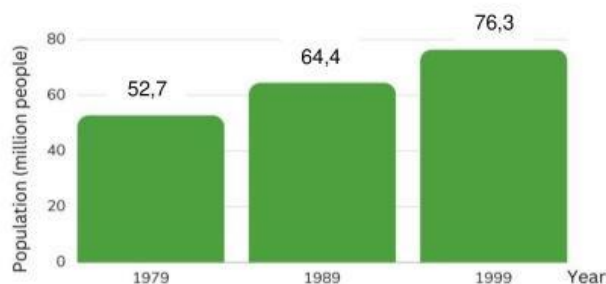
- A. Fire B. The sun C. Geothermal heat D. Wind

Question 8. What do goats eat?

- A. Insects and worms B. Rocks and stones
C. Fish and meat D. Grass and leaves

Question 9. The bar chart below gives information about the population of Vietnam from 1979 to 1999. What was the population growth in Vietnam between 1979 and 1999?

- A. 11,7 million people
B. 23,6 million people
C. 11,9 million people
D. 21,6 million people



Question 10. Which river is the southern delta of Vietnam mainly built up by?

- A. The Sài Gòn river B. The Nho Quế river
C. The Thu Bồn river D. The Mê Công river

Question 11. What does the sign on the right say?

- A. We are brother and sister. Say hello to us.
B. Holding hands is good. Do it now, please.
C. Kids often cross this road. Please slow down.
D. The road is slippery. Take care of your kids.



Question 12. Choose the best choice A, B, C, or D to fill in the blank.

Luka spends most of his time _____ with his toys.

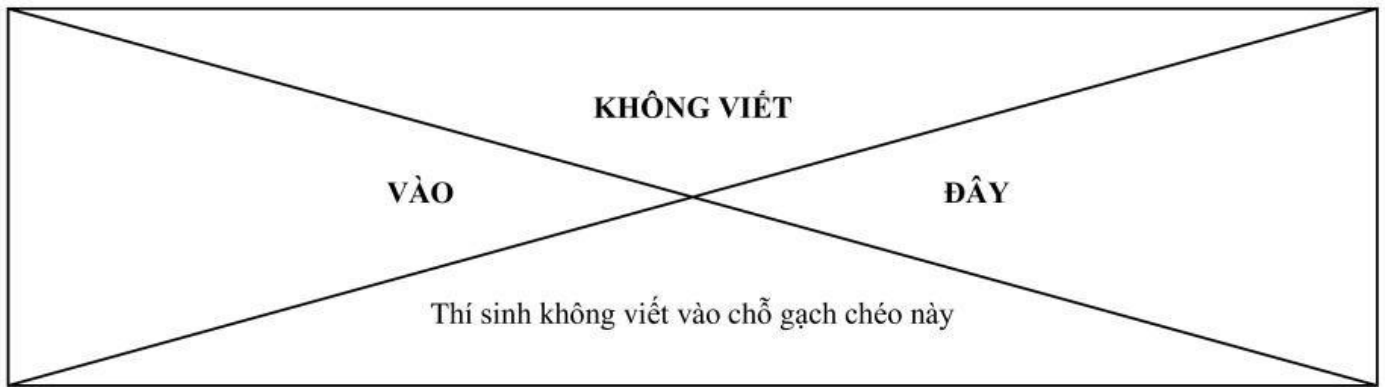
- A. playing B. plays C. to play D. played

Question 13. Choose the word that does not belong with the other ones:

- A. sea B. hill C. river D. brook

Question 14. An, Bình, Cường and Dũng, standing in a row, have their ages arranged from the oldest to the youngest. The age difference of any two students next to each other is an equal number and the product of the ages of An and Bình is 120. What is the sum of their ages?

- A. 30 B. 34 C. 36 D. 42



Question 15. These 4 equal triangles have some parts colored as below



Picture 1



Picture 2



Picture 3



Picture 4

In which picture is the area of the blackened parts the smallest?

- A. Picture 1 B. Picture 2 C. Picture 3 D. Picture 4

Question 16. Tâm wants to change one 10000 đồng banknote into 1000 đồng, 2000 đồng, and 5000 đồng banknotes. How many possible ways are there to make this change?

- A. 4 B. 5 C. 10 D. 11

Question 17. Which number is right for the blank?

2 ; 4 ; 10 ; 28 ; 82 ; ____.

- A. 190 B. 234 C. 242 D. 244

Question 18. Chọn từ thích hợp để điền vào chỗ trống trong câu: *Chỗ ướm mẹ nằm, chỗ _____ con lặn.*

- A. *ấm* B. *cao* C. *ráo* D. *nhỏ*

Question 19. Cách nối các vế câu trong câu ghép nào dưới đây chưa hợp lý?

- A. Trời càng nắng gắt, hoa giấy càng bồng lên rực rỡ.
B. Vì tôi đi xa nhưng tôi luôn nhớ đến mảnh đất yêu thương này.
C. Giá mà bạn đưa thêm hình ảnh vào thì bài thuyết trình đã hay hơn.
D. Chúng tôi nói đến đâu, anh ấy hiểu đến đó.

Question 20. Đọc đoạn văn sau.

[...] Nếu đọc được mười quyển sách không quan trọng, không bằng đem thời gian, sức lực đọc mười quyển ấy mà đọc một quyển thật sự có giá trị. Nếu đọc được mười quyển sách mà chỉ lướt qua, không bằng chỉ lấy một quyển mà đọc mười lần.

(Bàn về đọc sách, Chu Quang Tiềm)

Câu nào dưới đây có thể dùng làm câu mở đoạn phù hợp cho đoạn văn trên?

- A. Đọc nhiều quyển sách thật nhanh để tiếp thu kiến thức nhiều nhất có thể.
B. Đọc sách không chỉ là việc của cá nhân mà đó còn là việc của toàn nhân loại.
C. Đọc sách không cần phải đọc thật kĩ, chủ yếu phải lướt cho nhanh, đọc cho nhiều.
D. Đọc sách không cốt lấy nhiều, quan trọng nhất là phải chọn cho tinh, đọc cho kĩ.

--- HẾT ---