

LEMBAR KERJA IPAS

KELAS 5 SEMESTER 2

Topik A: Bagaimana Bernapas Membantu
Melakukan Aktivitas Sehari-hari?

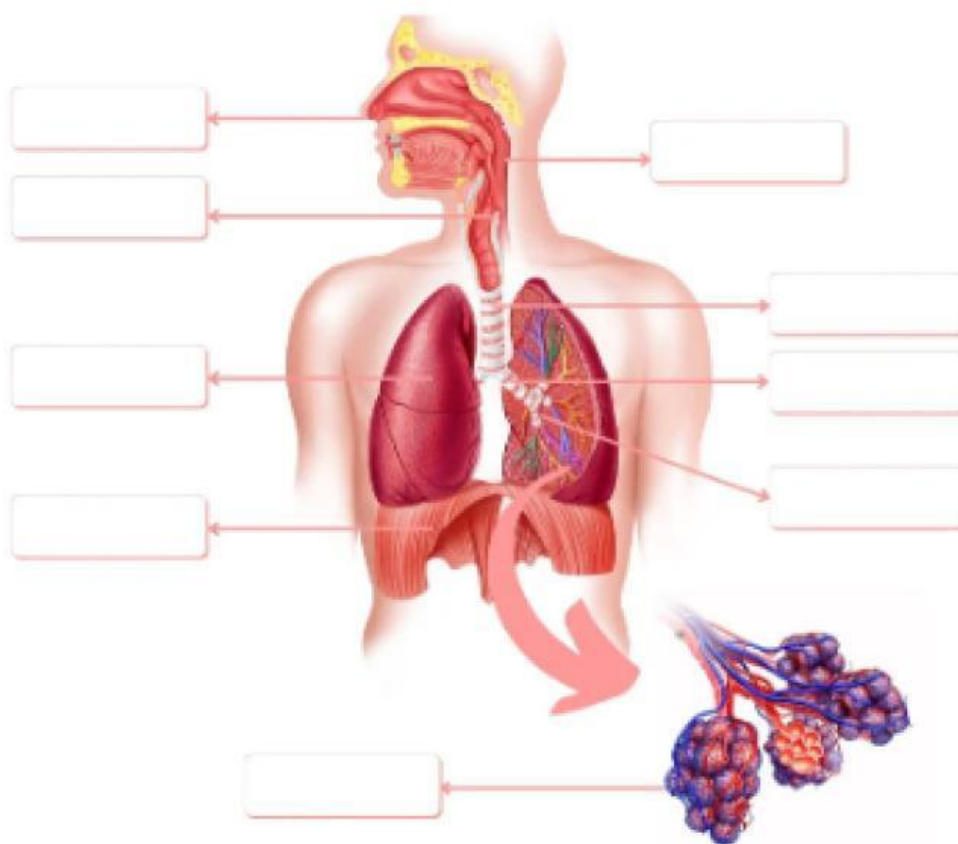


Nama:

Kelas:

Organ Pernafasan Manusia

Lengkapi bagian bagian pernafasan manusia berikut ini!



ALVEOLUS

BRONKIOLUS

DIAFRAGMA

HIDUNG

FARING

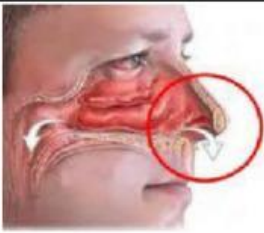
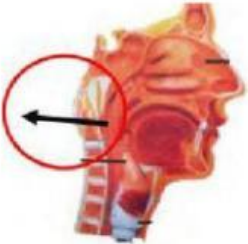
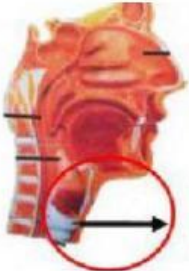



TRAKEA

LARING

BRONKUS

PARU-PARU

Lengkapi Tabel Berikut Ini!

No	Gambar	Nama Organ	Bagian	Fungsi
1				
2				
3				
4				
5				
6				

Ayo Berdiskusi



Nama Kelompok: 1.
2.
3.
4.

Kita setiap hari bernafas. Menurut kalian apa yang dimaksud dengan bernafas?

Organ tubuh manusia terdapat mulut dan hidung yang berfungsi untuk masuknya udara. Diantara ke dua organ tersebut manakah yang baik untuk bernafas? Jelaskan!

Bagaimana cara agar kualitas udara di lingkungan tetap terjaga dengan baik? Jelaskan!

Nama:

Kelas:

GANGGUAN PERNAFASAN

Tuangkan informasi yang diperoleh mengenai gangguan pernafasan dalam diagram berikut!



Berikan tanda ceklist () pada kolom "Setuju" atau "tidak setuju" sesuai dengan pemahamanmu!

Pernyataan	Setuju	Tidak Setuju
Lingkungan sekitar dapat memengaruhi kesehatan organ pernafasan.	<input type="checkbox"/>	<input type="checkbox"/>
Merokok dapat menyebabkan gangguan pernafasan	<input type="checkbox"/>	<input type="checkbox"/>
TBC, Influenza, Pneumonia merupakan gangguan pernafasan yang menular.	<input type="checkbox"/>	<input type="checkbox"/>
Batuk berdahak, demam, dan sesak napas merupakan gejala umum dari gangguan pada pneumonia	<input type="checkbox"/>	<input type="checkbox"/>
Asma dan bronkitis merupakan gangguan pernafasan yang tidak menular.	<input type="checkbox"/>	<input type="checkbox"/>