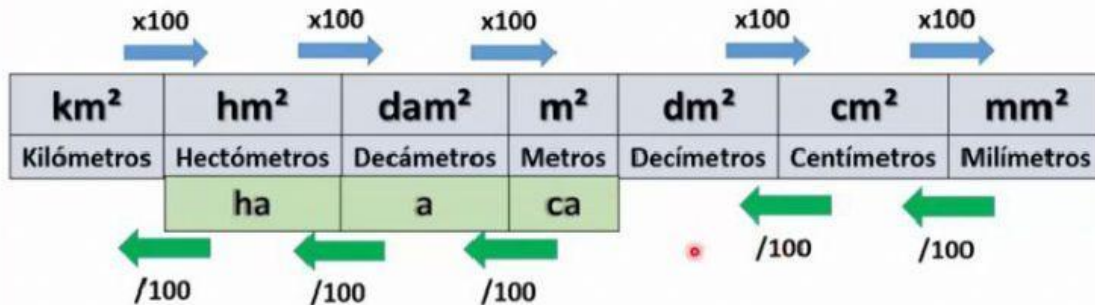


Conversiones

Para convertir a una unidad menor se multiplica por 100



Convierte

45000 m ²	ha
6 ha	m ²
8000000 m ²	ha
3.5 ha	m ²
74000m ²	ha
63 ha	m ²
9 ha	m ²
5 ha	m ²
12 ha	m ²
3 ha	m ²

Resuelve

María tiene un rancho muy grande de cítricos en el que sembró 40000m² de limones y 30000m² de naranja, 20000m² de toronja. ¿Cuántas hectáreas tiene de terreno?












_____ha

Yazale tiene un terreno muy grande que mide 90000m². ¿Cuántas hectáreas tiene?

_____ha

Conversiones

Para convertir a una unidad menor se multiplica por 100

						
km ²	hm ²	dam ²	m ²	dm ²	cm ²	mm ²
Kilómetros	Hectómetros	Decámetros	Metros	Decímetros	Centímetros	Milímetros
	ha	a	ca			
						
/100	/100	/100		 /100	/100	

Emiliano tiene un maizal de 14ha ¿Cuántos metros cuadrados tiene?

_____ m²

Marco y Julio tienen 12 hectáreas de frutales ¿Cuántas centiáreas tienen? Si la quieren dividir entre dos para sembrar mango y aguacates ¿Cuántos metros tiene cada terreno?

_____ ca tiene el terreno en total

_____ m² tiene cada terreno