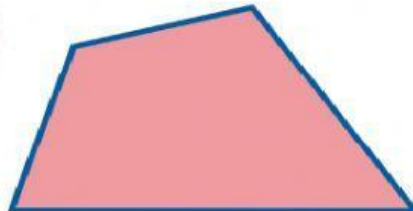



## ACTIVIDADES EN CLASE

Observe y analice cada figura geométrica

1.- Ubica cada figura con su nombre



CUADRADO

RECTÁNGULO

ROMBO

ROMBOIDE


TRAPEZOIDE

TRAPECIO

2.- ¿Cuáles tienen sus lados opuestos paralelos de dos en dos?



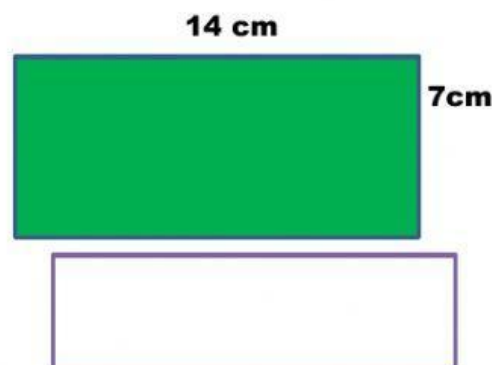

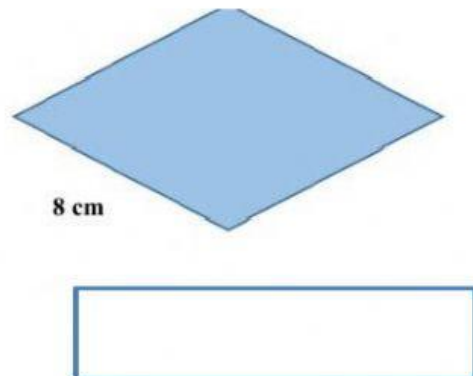
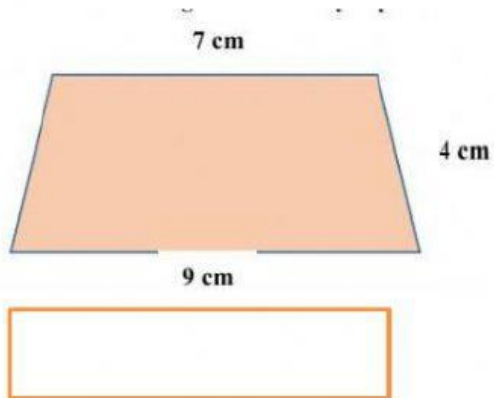
3.- ¿Cuáles no tienen ningún lado paralelo?



4.- ¿Cuáles tienen todos los ángulos iguales?



**5.- Calcule el perímetro de los siguientes cuadriláteros.**



**6.- El cuadrado tiene 4 ángulos de 90 grado**

