

Фантастична Сербія.

Закріплення множення та ділення.

Вираз з буквеними даними.

Додаткові завдання



Обчисли та дізнайся назву
гірського масиву в Сербії

$4 \times 9 =$	Л	$64 : 8 =$	Т
$25 : 5 =$	З	$7 \times 7 =$	О
$18 : 3 =$	Б	$6 \times 7 =$	И
$8 \times 4 =$	А	$8 \times 10 =$	Р

5	36	32	8	42	6	49	80


Обчисли вираз і дізнайся, скільки днів світить
сонце в Сербії

$125 + a$, якщо $a = 75$




$125 +$ $=$ днів світить сонце



З'єднай
фігури і
частини, які
їм підходять



Порахуй вартість кожного обіду і
запиши відповідь у комірчини.



Оціни свою роботу

