

Nama Siswa:

3 Maret 2021

بِسْمِ اللَّهِ الرَّحْمَنِ الرَّحِيمِ

Pilihlah A, B, C, atau D pada Jawaban yang Benar!

1. Segitiga, persegi, lingkaran dan persegi panjang merupakan contoh bangun . . .

- | | |
|---------------|-----------------|
| a. ruang | c. datar |
| b. berdimensi | d. dimensi tiga |

2. Segitiga adalah bangun dengan . . . sisi.

- | | |
|------|------|
| a. 2 | c. 4 |
| b. 3 | d. 5 |

3. Pada bangun segitiga mempunyai sudut sebanyak . . .

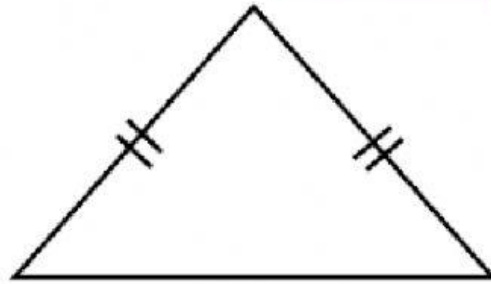
- | | |
|------|------|
| a. 1 | c. 3 |
| b. 2 | d. 4 |

4. Segitiga yang mempunyai dua sisi yang sama panjang dan dua sudut sama besar disebut segitiga . . .

- | | |
|-----------------------------|-----------------------|
| a. segitiga tidak beraturan | c. segitiga siku-siku |
| b. segitiga sama kaki | d. segitiga sama sisi |

5. Gambar bangun di bawah ini adalah gambar bangun . . .

- a. segitiga sama sisi
- b. Segitiga siku-siku
- c. Segitiga sama kaki
- d. Segitiga tidak beraturan



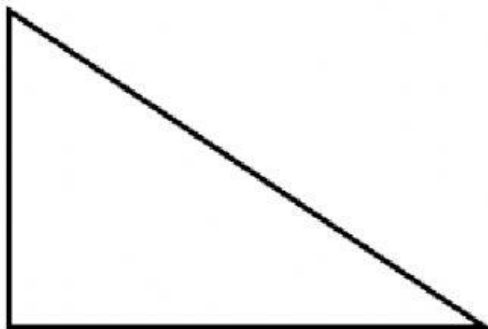
6. Segitiga yang tidak mempunyai sisi yang sama panjang dan memiliki sudut yang besarnya berbeda-beda adalah . . .

- a. segitiga sama kaki
- b. segitiga sama sisi
- c. segitiga siku-siku
- d. segitiga tidak beraturan

7. Nama bangun yang ketiga sisinya sama dan mempunyai 3 sudut sama besar adalah . . .

- a. segitiga sama sisi
- b. segitiga sama kaki
- c. segitiga siku-siku
- d. segitiga tidak beraturan

8.



Gambar di samping adalah gambar segitiga . . .

- a. lancip
- b. siku-siku
- c. sama sisi
- d. tidak beraturan

9. Segitiga sama kaki mempunyai sisi yang sama panjang sebanyak . . .

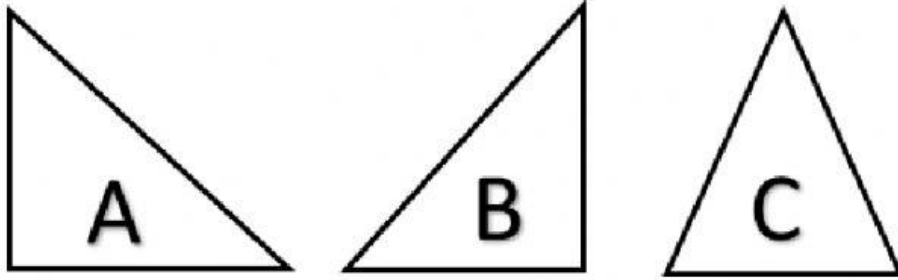
a. 2

c. 4

b. 3

d. 5

10. Gambar di bawah ini yang merupakan segitiga siku-siku adalah . . .



a. A dan C

c. C dan A

b. B dan C

d. A dan B

الْحَمْدُ لِلَّهِ رَبِّ الْعَالَمِينَ