

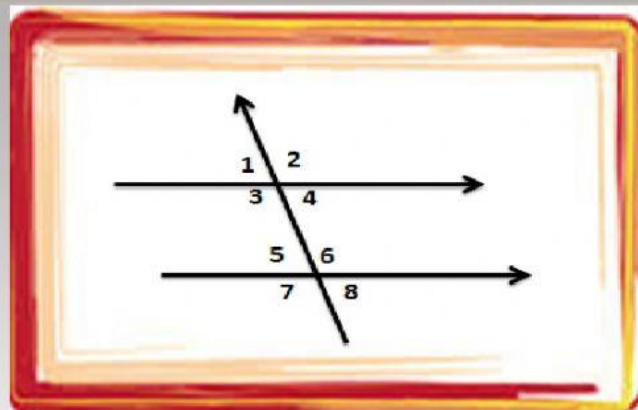
LKPD GARIS DAN SUDUT

NAMA

KELAS

Berikut materi untuk Garis dan Sudut

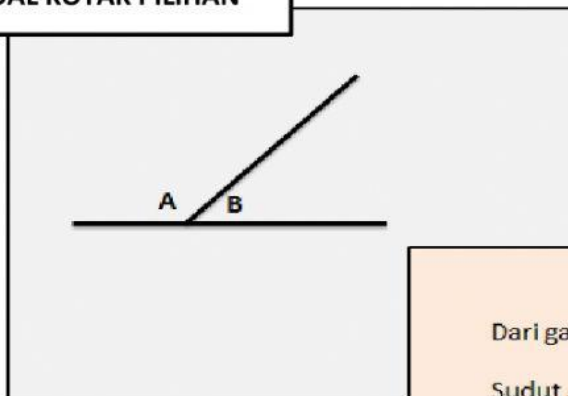
SOAL PILIHAN GANDA



Pernyataan yang benar dari gambar di atas adalah ...

- a. $\angle 1$ sehadap $\angle 2$
- b. $\angle 2$ sehadap $\angle 7$
- c. $\angle 3$ sehadap $\angle 5$
- d. $\angle 4$ sehadap $\angle 8$

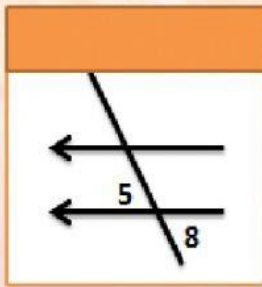
SOAL KOTAK PILIHAN



Dari gambar diatas

Sudut A + Sudut B =

SOAL MENEMPELKAN



BERPELURUS

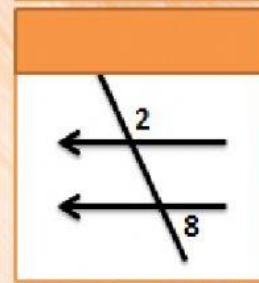
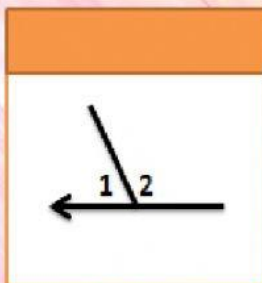
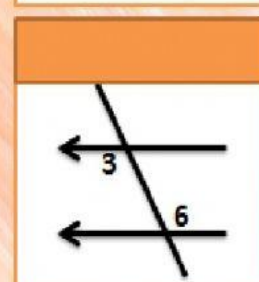
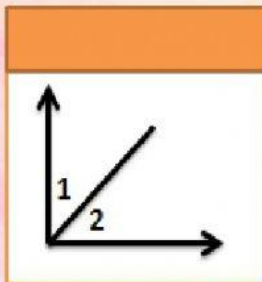
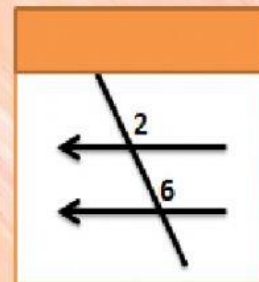
SUDUT SEHADAP

BERSEBRANGAN

BERPENYIKU

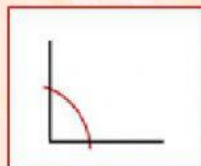
BERTOLAK
BELAKANG

SUDUT SEPIHAK

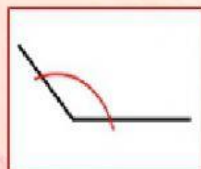


SOA MENJODOHKAN

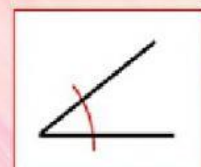
Buat garis untuk memasangkan gambar yang sesuai dengan keterangannya



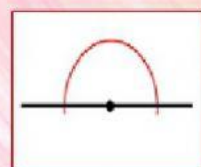
SUDUT LANCIP



SUDUT SIKU-SIKU

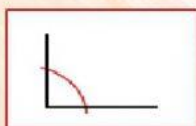


SUDUT LURUS

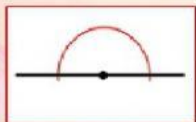


SUDUT TUMPUL

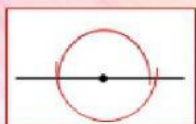
SOAL ISIAN SINGKAT



1. Besar sudut dari gambar di samping adalah

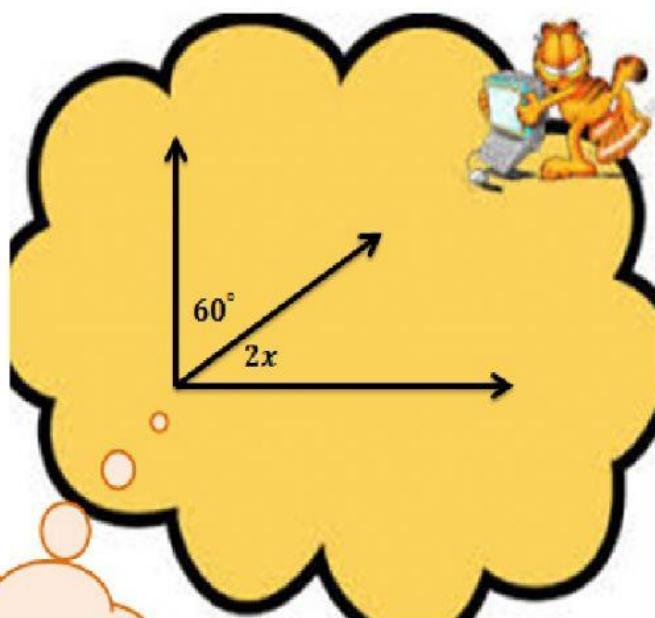


2. Besar sudut dari gambar di samping adalah



3. Besar sudut dari gambar di samping adalah

SOAL ESSAY



JAWABAN