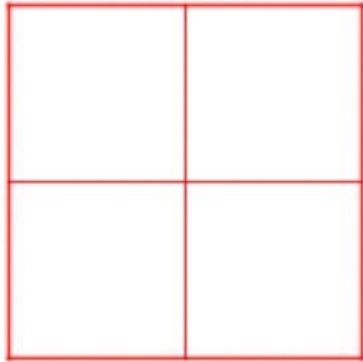



ACTIVIDAD LÚDICA DE INICIO

Indicación: observa detenidamente las 4 primeras figuras, deberás encontrar el valor de cada color (*un número entero*) para determinar cuánto vale la quinta figura.




LA FIGURA #1 VALE 28

¿cuánto vale el color blanco?




LA FIGURA #2 VALE 30

¿cuánto vale el color negro?



LA FIGURA #3 VALE 20



LA FIGURA #4 VALE 16

¿cuánto vale el color azul?



¿cuánto vale el color rojo?



PROF. AMC




FIGURA #5

¿CUÁNTO VALE LA FIGURA?

