




FICHA INTERACTIVA MATEMÁTICA- 1ºB

NÚMEROS ORDINALES


1. Observa las ilustraciones y completa.

									
ratón	perro	gato	múcaro	vaca	pato	caballo	cerdo	oveja	conejo

- ☐ El quinto es _____.
- ☐ El octavo es _____.
- ☐ El décimo es _____.
- ☐ El cuarto es _____.
- ☐ El noveno es _____.
- ☐ El sétimo es _____.
- ☐ El tercero es _____.
- ☐ El segundo es _____.
- ☐ El primero es _____.
- ☐ El sexto es _____.

2. Pinta, siempre contando desde la izquierda:

a. La novena y quinta abeja.



b. La cuarta y decima magdalena.



c. La segunda y séptima manzana.



d. El tercero y noveno pimiento.



3. En una Carrera los niños y niñas llegaron en el siguiente orden. Cuenta de izquierda a derecha.



Pepe Beto Nano Pamela Tula Mateo Paolo Daniel Manolo Anita

¿Quién llegó en quinto lugar? ¿Quién llegó en décimo lugar?

Completar el cuadro

Números orden	Escritura	Nombre de los niños (as)
1°	primero	Pepe
	segundo	
	tercero	
	cuarto	
	quinto	
	sexto	
	séptimo	
	octavo	
	noveno	
	décimo	

¿Quién llegó en quinto lugar? _____

¿Quién llegó en décimo lugar? _____