

# PARTES DE LA COMPUTADORA

Grado:

## APRENDEMOS CON MEDIOS MULTIMEDIA

Observa atentamente el siguiente video informativo sobre las partes de la computadora.



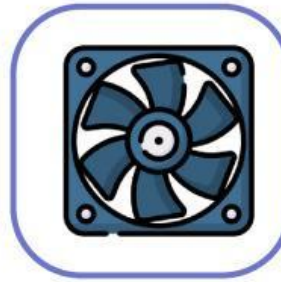
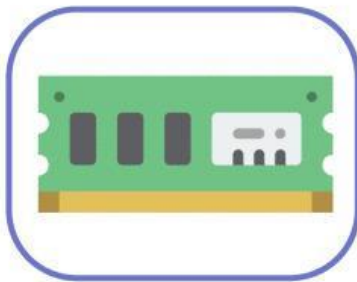
Después de observar el video, ahora leemos la siguiente presentación informativa.

# PARTES DE LA COMPUTADORA

Profesor: Gerardo Mio Jara

Lee el siguiente texto y responde las preguntas.

Maria es estudiante del primer año de secundaria, ella tiene una computadora bastante antigua. Un día, su profesor de computo pidió que deben traer la tarjeta RAM. ¿Cuál de las siguientes imagenes representa a dicho componente?



¿Para qué sirve la tarjeta RAM en el computador? Marque con una X la respuesta correcta

Se usa para almacenar información que necesita usarse rápidamente.	
Se usa para enfriar los componentes de la tarjeta madre	
Permite alimentar con energia electrica a la tarjeta madre.	
Permite transportar la información de la CPU.	


# PARTES DE LA COMPUTADORA

Profesor: Gerardo Mio Jara

## APRENDEMOS CON MEDIOS SONOROS

Escucha con atención los siguientes enunciados y responde correctamente.

Escucha el siguiente audio y marca la alternativa correcta :



¿A qué parte de la computadora hace referencia la descripción?

- Teclado
- Pantalla
- Mause
- Disco Duro
- Gabinete



Escucha el siguiente audio y contesta usando el micrófono.



Visita la página web: [Enlace Web](#)