






Bangun Datar 1

Simetri Lipat dan Simetri Putar

Nama Anggota :

Kelompok/Kelas :

Jawablah soal-soal di bawah ini dengan langkah yang tepat!

1.		<ul style="list-style-type: none">gambarlah bangun belah ketupat dengan diagonal sisi 12 x 12 cmtentukan simetri lipat dan simetri putarnya	Jawaban : Simetri Lipat = Simetri Putar =
2.		<ul style="list-style-type: none">gambarlah bangun segi enam dengan sisi 6 cmtentukan simetri lipat dan simetri putarnya	Jawaban : Simetri Lipat = Simetri Putar =
3.		<ul style="list-style-type: none">gambarlah bangun segitiga sama sisi dengan sisi 12 cmtentukan simetri lipat dan simetri putarnya	Jawaban : Simetri Lipat = Simetri Putar =
4.		<ul style="list-style-type: none">gambarlah bangun persegi panjang dengan sisi panjang 12 cm dan lebar 8 cmtentukan simetri lipat dan simetri putarnya	Jawaban : Simetri Lipat = Simetri Putar =
5.		<ul style="list-style-type: none">gambarlah bangun lingkaran dengan jari-jari 6 cmtentukan simetri lipat dan simetri putarnya	Jawaban : Simetri Lipat = Simetri Putar =