

# ¿Qué hora es?

Observa y escribe la hora que marcan los relojes analógicos (de aguja) en el reloj digital. Recuerda que los minutos los contamos de 5 en 5..



09:00



:



:



:



:



:



:



:



:

# Reloj analógico

Une cada reloj analógico con su hora correcta.

1º Aguja corta marca las horas.

2º Aguja larga marca los minutos.



SON LAS OCHO Y CINCO



SON LAS DOCE Y CUARTO



SON LAS DIEZ Y MEDIA



SON LAS TRES Y DIEZ

SON LAS TRES EN PUNTO



SON LA UNA Y MEDIA











SON LAS CINCO Y DIEZ

SON LAS CINCO Y DOS

SON LAS DOS Y CUARTO

# Marca la hora correcta en cada caso..

Mira los relojes y elije la respuesta correcta para cada uno. Mira primero la aguja pequeña que indica las horas!!

	<div>Son las doce y cuarto</div> <div>Son las doce en punto</div>		<div>Son las seis en punto</div> <div>Son las una y media</div>
	<div>Son las nueve y media</div> <div>Son las siete y media</div>		<div>Son las doce y cinco</div> <div>Son la una en punto</div>
	<div>Son las ocho y cuarto</div> <div>Son las ocho y media</div>		<div>Son las doce y media</div> <div>Son las doce en punto</div>
	<div>Son las doce en punto</div> <div>Son las once en punto</div>		<div>Son las nueve en punto</div> <div>Son las nueve y cuarto</div>
	<div>Son las doce y media</div> <div>Son las cinco en punto</div>		<div>Son las tres y media</div> <div>Son las seis y cuarto</div>