



# SOAL EVALUASI


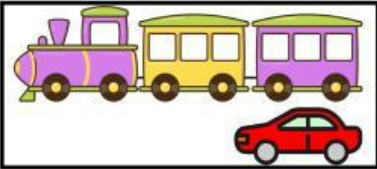
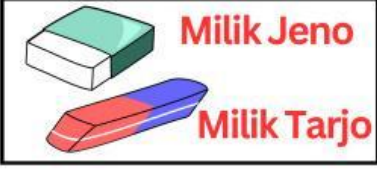

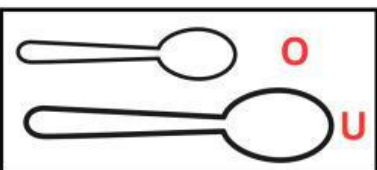
Nama :

Kelas :

No. Absen :

Nilai :

## A. Ayo menjodohkan dengan benar !

<p>① </p>	<p>• <input type="checkbox"/> Sendok O lebih pendek dari sendok U</p>
<p>② </p>	<p>• <input type="checkbox"/> Kuas C lebih pendek</p>
<p>③ </p>	<p>• <input type="checkbox"/> Pensil lebih panjang dari gunting</p>
<p>④ </p>	<p>• <input type="checkbox"/> Kereta lebih panjang dari mobil</p>
<p>⑤ </p>	<p>• <input type="checkbox"/> Penghapus milik Tarjo lebih panjang dari milik Jeno</p>

## B. Berilah tanda (✓) pada jawaban yang benar di bawah ini !

1. Mainan yang paling pendek milik siapa?

Milik Kanya



Milik Kenzie



2. Mainan yang paling panjang milik siapa?

Milik Zio



Milik Qiqi



Milik Naufal



**A. Bandingkanlah dan isilah dengan jawaban yang tepat!  
(lebih panjang dari, lebih pendek dari, paling panjang,  
paling pendek)**



**1) Setelah mengamati gambar, mainan mana yang paling panjang?**

**2) Setelah mengamati gambar, mainan mana yang paling pendek?**

**3) Tulislah perbandingan panjang atau pendek dari 2 obyek benda yang ada pada gambar! (Jawablah sebanyak 3 perbandingan)**