



PEMERINTAH KABUPATEN SINJAI
KECAMATAN SINJAI BARAT
SD NEGERI NO. 237 LAPPARA'NA

Alamat : Jl. Poros Bonto Salama No. 57 Kec. Sinjai Barat Kab. Sinjai ✉ 92653



SOAL SUMATIF AKHIR SEMESTER (SAS)
SEMESTER GENAP

MATA PELAJARAN : Seni Budaya	ALOKASI WAKTU : 1 Jam (60 Menit)
KELAS : IV (EMPAT)	NAMA SISWA :
TAHUN PELAJARAN : 2023/2024	NIS :

A. PILIHAN GANDA

Untuk soal nomor 1 - 4, berilah tanda silang (X) pada huruf a, b, c, dan d pada jawaban yang benar!

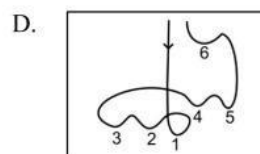
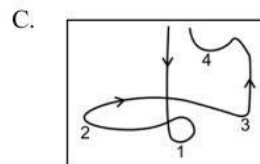
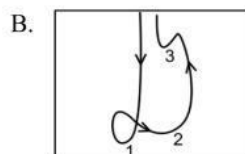
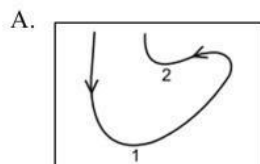
1. Perhatikan gambar berikut ini!



Gambar di atas menunjukkan cerita yang disajikan dengan gambar dan percakapannya menggunakan balon kata. Gambar tersebut dinamakan gambar ...

- A. cerpen
- B. poster
- C. komik
- D. novel

2. Amira memimpin kelompok paduan suara. Mereka akan menyanyikan lagu nasional berirama 4/4. Gerakan tangan Amira pada saat memberikan aba-aba pada lagu tersebut adalah...



3. Sampah plastik sangat berpotensi memenuhi lingkungan dan menjadi sampah yang paling mencemari di muka bumi. Hal ini dikarenakan sampah plastik ...
- mudah terurai secara alamiah
 - sulit terurai secara alamiah
 - berasal dari bahan sehari-hari
 - dimanfaatkan untuk didaur ulang
4. Perhatikan gambar berikut!



Gambar tersebut adalah wayang, wayang termasuk *shadow puppet*. Arti **shadow** adalah ...

- bayangan
- imajinasi
- tokoh
- pertunjukan

B. PILIHAN GANDA KOMPLEKS

Untuk soal nomor 5 – 6, pilih dan berilah tanda centang (✓) pada kolom **BENAR** jika pernyataan yang benar dan kolom **SALAH** jika pernyataan salah!

5. Ragam lagu adalah berbagai jenis, corak, ataupun model dari lagu. Jenis lagu yang dimiliki bangsa Indonesia sangat beragam. Penyebabnya adalah keragaman suku bangsa dan adat istiadat di Indonesia.

Berilah tanda centang (✓) pada kolom **benar** dan **salah** pada pernyataan yang sesuai dengan ciri-ciri lagu daerah!

Pernyataan	Benar	Salah
Jarang diketahui penciptanya.		
Menggunakan bahasa Indonesia.		
Memiliki irama serta melodi yang sederhana.		
Mengandung makna sesuai nilai kehidupan dan kebudayaan di kawasan setempat.		

6. Perhatikan teks lagu berikut!

Balonku

Digubah oleh A.T. Mahmud

Balonku ada lima
Rupa-rupa warnanya
Hijau, kuning, kelabu
Merah muda dan biru
Meletus balon hijau DOR!
Hatiku sangat kacau
Balonku tinggal empat
Kupegang erat-erat

Berilah tanda centang (✓) pada kolom benar jika pernyataan benar dan salah pada pernyataan yang sesuai dengan ciri-ciri lagu anak-anak!

Pernyataan	Benar	Salah
Lagu yang lahir dan berkembang dari budaya setempat.		
Lirikya bertema kegiatan sehari-hari yang sering dilakukan.		
Bahasa yang digunakan sederhana.		
Lagunya bersifat riang dan ceria.		

C. Untuk soal nomor 7 – 8, pilih dan berilah tanda centang (✓) pada setiap pernyataan yang benar! (jawaban dapat lebih dari satu)

7. Sampah plastik merupakan sampah yang tidak dapat diuraikan atau dimusnahkan secara alamiah sehingga secara langsung memberikan dampak lingkungan yang tidak baik. Sampah plastik terus bertambah setiap hari sehingga semakin lama memenuhi lingkungan dan mencemarnya. Ada beberapa cara yang bisa dilakukan untuk menyelesaikan masalah sampah plastik yang ada di sekitar kita.

Berilah tanda centang (✓) pada pernyataan cara yang dapat dilakukan untuk menyelesaikan masalah sampah plastik! (jawaban dapat lebih dari satu)

- ☐ menggunakan sedotan plastik
- ☐ melakukan daur ulang sampah plastik
- ☐ membawa kantong belanja sendiri
- ☐ membawa botol minum sendiri

8. Perhatikan gambar berikut!



Bagian komik yang diberi tanda panah merah disebut **balon kata**. Berilah tanda centang (✓) pada pernyataan yang merupakan isi dari balon kata pada komik! (jawaban dapat lebih dari satu)

- ☐ percakapan
- ☐ narasi cerita
- ☐ latar cerita
- ☐ perasaan tokoh

D. MENJODOHKAN

Untuk soal nomor 9 - 12, pasangkanlah pernyataan di lajur kiri dengan keterangan yang tepat di lajur kanan!

9.

Lagu daerah adalah lagu yang lahir dan berkembang dari budaya setempat. Ciri dari lagu daerah antara lain menggunakan bahasa daerah, lirik lagu sesuai budaya setempat, dan bahasa yang digunakan sederhana.

Hubungkanlah judul lagu dan asal daerahnya dengan tepat!

Apuse	<input type="radio"/>	<input type="radio"/>	Kalimantan Selatan
Ampar-Ampar Pisang	<input type="radio"/>	<input type="radio"/>	Sulawesi Selatan
Anging Mammiri'	<input type="radio"/>	<input type="radio"/>	Aceh
Bungong Jeumpa	<input type="radio"/>	<input type="radio"/>	Papua

10. Pasangkanlah ragam lagu berikut dengan judul lagu yang sesuai!

Lagu Daerah	<input type="radio"/>	<input type="radio"/>	Bintang Kecil
Lagu Anak-Anak	<input type="radio"/>	<input type="radio"/>	Tanah Airku
Lagu Nasional	<input type="radio"/>	<input type="radio"/>	Ampar-Ampar Pisang
Lagu Populer	<input type="radio"/>	<input type="radio"/>	Sang Dewi

11.

Salah satu unsur penting dalam lagu adalah dinamika. Melalui dinamika, nada akan dimainkan secara lembut, pelan, ataupun keras dan lantang. Perubahan keras dan lembutnya lagu disebut dinamika.

Pasangkanlah jenis dinamika berikut dengan artinya yang sesuai!

<i>mezzo-piano</i>	<input type="radio"/>	<input type="radio"/>	Sangat keras
<i>piano</i>	<input type="radio"/>	<input type="radio"/>	lembut
<i>forte</i>	<input type="radio"/>	<input type="radio"/>	keras
<i>fortissimo</i>	<input type="radio"/>	<input type="radio"/>	Agak lembut

12.

Bangsa Indonesia memiliki beragam budaya yang unik dan juga indah. Salah satunya adalah wayang kulit. Kata "wayang" memiliki arti pertunjukan bayangan atau di balik layar. Hal ini sesuai dengan pertunjukan wayang kulit yang dilakukan di balik kain putih atau biasa disebut *kelir*.

Pasangkanlah istilah berikut dengan pengertian yang sesuai!

Wayang ☐

☐ Orang yang memainkan wayang kulit selama pertunjukan berlangsung.

Dalang ☐

☐ Kain putih yang digunakan sebagai layar dalam pertunjukan wayang kulit.

Kelir ☐

☐ Pertunjukan budaya khas Indonesia yang dilakukan di balik layar.

E. ISIAN

Untuk nomor 13 – 16, isilah titik-titik di bawah ini dengan jawaban yang tepat!

13. Perhatikan gambar di bawah ini!



Tema komik pada gambar di atas adalah ...

14. Perhatikan gambar berikut!



Orang yang memimpin atau orang yang memberikan aba-aba melalui gerak isyarat pada paduan suara disebut ...

15. Amatilah gambar berikut!



Berdasarkan gambar tersebut, gelas plastik bekas air mineral tersebut dapat digunakan untuk ...

16. Perhatikan gambar berikut!



Bahan yang digunakan untuk membuat celengan di atas adalah ...

F. URAIAN

Untuk nomor 17 – 20, jawablah pertanyaan berikut dengan jawaban yang benar!

17. Tuliskan 3 limbah yang dapat digunakan sebagai bahan untuk membuat kerajinan seni!

18. Perhatikan gambar berikut!



Apa yang dimaksud dengan irama?

19. Limbah plastik adalah limbah yang sulit terurai di tanah. Oleh sebab itu, timbunan limbah plastik dapat merusak kelestarian lingkungan. Salah satu cara untuk mengurangi limbah plastik adalah dengan melakukan daur ulang sampah plastik.

Apa yang dimaksud **daur ulang**? Jelaskan!

20. Sebutkan 3 judul lagu wajib nasional yang kamu ketahui!