

FICHA INTERACTIVA MATEMÁTICA - 4A

Resolvemos problemas de multiplicación

Planteamiento del problema

GRUPO N°03

- I. Un señor ha vendido 548 paquetes de figuritas en una feria, si en cada paquete hay media docena. ¿Cuántas figuritas vendió en total?
- II. Juan compró 28 pelotas a 34 soles cada una. ¿Cuánto de dinero gastó en la compra?

Familiarización con el I Problema:

1. ¿Cuántos paquetes de figuritas ha vendido en la feria?

548 12 6

2. ¿En cada paquete hay?

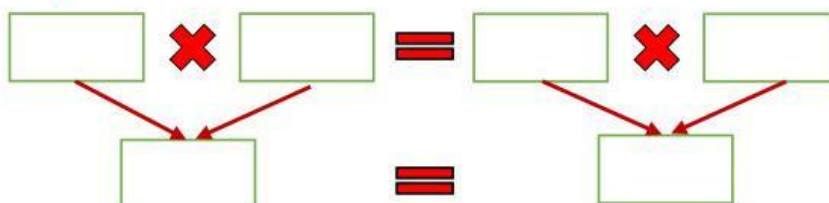
12 6 26

3. ¿Qué deseamos saber?

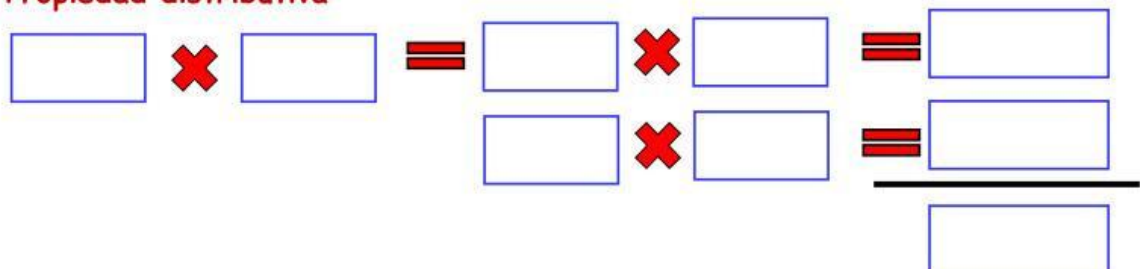
4. ¿Qué estrategia usarás para resolver el problema de las que has aprendido?

5. ¿Qué propiedad te facilitará el trabajo?

a. Propiedad conmutativa



b. Propiedad distributiva



6. Respuesta: El señor vendió.....figuritas en total.

Familiarización con el II Problema:

1. ¿Cuántas pelotas compró Juan?

28 35 62

2. ¿Cuánto le cuesta cada una?

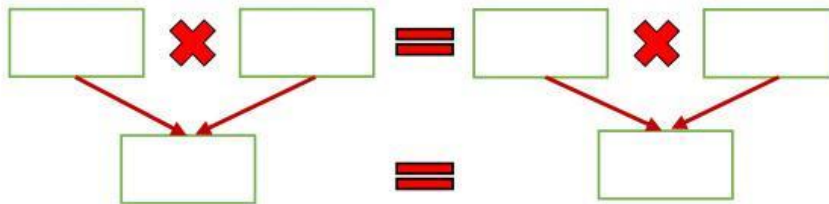
35 soles 34 soles 22 soles

3. ¿Qué deseamos saber?

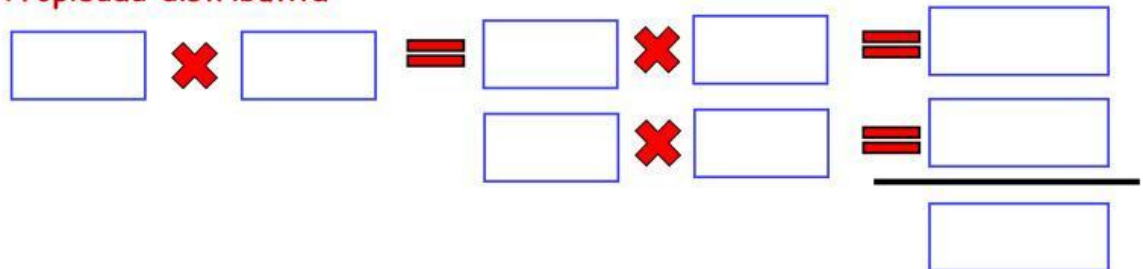
4. ¿Qué estrategia usarás para resolver el problema de las que has aprendido?

5. ¿Qué propiedad te facilitará el trabajo?

c. Propiedad conmutativa



d. Propiedad distributiva



6. Respuesta: Juan gastó.....