



PEMERINTAH KABUPATEN SINJAI

DINAS PENDIDIKAN

SD NEGERI 69 BALANG-BALANG KEC. SINJAI BARAT

Alamat : Jln. Balakia NO.A18 Kel. Balakia, Kec. Sinjai Barat Kab. Sinjai ✉ 92653

SOAL PENILAIAN AKHIR TAHUN (PAT)

Tema : 8. Lingkungan Sahabat Kita

Kelas/ Smt : V (Lima)/ Genap

Tahun Pelajaran : 2023/2024

Nama Siswa :

Mapel	KD	NO. SOAL	NILAI	KETUNTASAN	TTD Guru	TTD Orang Tua
Ppkn	3.3	1,5,13,17		Tuntas / Remedial		
Indonesia	3.8	2,6,9,18		Tuntas / Remedial		
IPA	3.8	3,7,10,14		Tuntas / Remedial		
IPS	3.3	4,11,15,19		Tuntas / Remedial		
SBdP	3.3 & 3.2	8,12,16,20		Tuntas / Remedial		

A. PILIHAN GANDA

Jawablah pertanyaan di bawah ini dengan member tanda silang (×) pada pilihan jawaban yang paling benar!

1. Perhatikan gambar berikut!



Pakaian adat yang terdapat pada gambar tersebut berasal dari daerah

- A. Papua
- B. Sulawesi
- C. Sumatera
- D. Kalimantan


2. Bacalah teks berikut!

Warga Kelurahan Waborobo, Kecamatan Betoambari, Kota Baubau, Sulawesi Tenggara sulit mencari air bersih. Mereka harus menempuh perjalanan hingga sejauh 15 kilometer dari tempat tinggalnya untuk mendapatkan air bersih. Mereka terpaksa mengambil air bersih di Kelurahan Kaisabu Baru, Kecamatan Sorawolio. Mereka biasanya menumpang mobil dan membawa beberapa jeriken ukuran 15 liter. Jeriken itu digunakan untuk menampung air yang mengalir dari aliran sebuah anak sungai di Kelurahan Kaisabu Baru.

Jenis teks berdasarkan bacaan tersebut adalah....

- A. fiksi karena teks berisi khayalan
- B. nonfiksi karena teks hanya berupa opini
- C. nonfiksi karena teks berisi kejadian faktual
- D. nonfiksi karena teks bersumber dari dongeng

3. Perhatikan gambar berikut!



Berdasarkan gambar tersebut, menunjukkan bahwa air berguna untuk

- A. olahraga
- B. transportasi
- C. fotosintesis
- D. pembangkit listrik

4. Bacalah ilustrasi berikut!

Pak Rudi mempunyai peternakan ulat sutera. Ulat sutera dibudidayakan untuk diambil benangnya. Pak Rudi menjual benang sutera kepada pemilik industri pakaian.

Berdasarkan ilustrasi tersebut, kegiatan ekonomi Pak Rudi disebut sebagai

- A. produsen
- B. distributor
- C. konsumen
- D. kolektor

B. PILIHAN GANDA KOMPLEKS

5. Perhatikan pernyataan tentang sikap saling menghargai dan menghormati keberagaman berikut!

- (i) Hanya mau mempelajari budayanya sendiri.
- (ii) Menyaksikan pertunjukan kesenian daerah sendiri.
- (iii) Berteman tanpa membedakan budaya, suku, maupun agama.
- (iv) Menghargai orang lain yang sedang menjalankan ibadah ataupun upacara adat meskipun berbeda dengan kita.

Berdasarkan pernyataan tersebut, tentukan pernyataan benar atau salah dengan memberi tanda centang pada kolom yang disediakan.

Pernyataan	Benar	Salah
(i)		
(ii)		
(iii)		
(iv)		

6. Perhatikan jenis teks berikut!

- (i) Artikel
- (ii) Dongeng
- (iii) Iklan
- (iv) Cerpen

Berdasarkan jenis teks tersebut, berilah tanda centang pada jawaban benar atau salah yang merupakan jenis teks nonfiksi!

Pernyataan	Benar	salah
(i)		
(ii)		
(iii)		
(iv)		

7. Perhatikan gambar berikut!



Berdasarkan gambar tersebut, tentukan pernyataan benar atau salah dari contoh pemanfaatannya oleh makhluk hidup.

Pernyataan	Benar	Salah
Sebagai sumber minum makhluk hidup		
Membantu tumbuhan untuk berfotosintesis		
Jika digunakan dalam jumlah yang banyak dapat menyebabkan kekeringan.		
yang digunakan untuk pabrik yang dapat menimbulkan polusi terutama di sungai		

8. Perhatikan gambar tarian berikut!



Berdasarkan gambar tersebut, berilah tanda centang (✓) pada kolom benar atau salah yang sesuai dengan pernyataan!

Pernyataan	Benar	Salah
Merupakan tari legong		
Menggunakan pola lantai vertikal		
Tari tersebut berasal dari daerah Kalimantan		
Menggunakan properti penutup kepala, sarung dan stagen		

C. MENJODOHKAN

9. Bacalah teks berikut!

Memasak dengan Teknik Wood Fire

Wood fire merupakan salah satu cara memasak makanan dalam tungku besar. Tungku besar tersebut terbuat dari batu bata yang dibagian dalamnya terdapat kayu bakar menyala.

Panas yang dihasilkan oleh teknik wood fire dapat membuat aroma makanan terasa lebih lezat. Oleh sebab itu, banyak koki internasional yang menggunakan wood fire sebagai teknik memasak andalan.

Menurut salah satu koki eksekutif internasional, Jacob Burrell, memasak dengan menggunakan teknik wood fire dapat menghasilkan aroma yang khas dan kematangan makanan yang pas. Hal itulah, yang membuat makanan terasa lebih lezat.

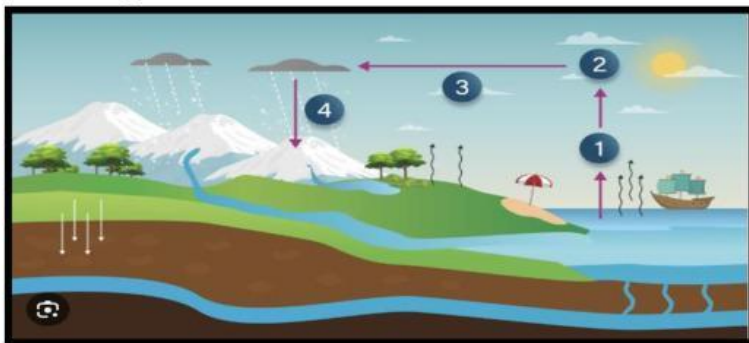
Contoh makanan yang dapat dimasak dengan teknik wood fire adalah pizza, makanan dari Italia. Sementara itu, seafood akan memiliki aroma lebih wangi setelah minyaknya dibakar menggunakan teknik wood fire.

Berdasarkan bacaan berjudul "Teknik memasak wood fire" pasangkan informasi-informasi berikut dengan letak paragraf dalam teks tersebut!

pernyataan	
banyak koki internasional yang menggunakan wood fire sebagai teknik memasak andalan.	●
Wood fire merupakan salah satu cara memasak makanan dalam tungku besar.	●
Contoh makanan yang dapat dimasak dengan teknik wood fire adalah pizza, makanan dari Italia	●
Menurut salah satu koki eksekutif internasional, Jacob Burrell, memasak dengan menggunakan teknik wood fire dapat menghasilkan aroma yang khas dan kematangan makanan yang pas	●

Paragraf	
●	Paragraf 1
●	Paragraf 2
●	Paragraf 3
●	Paragraf 4

10. Perhatikan gambar berikut!



Berdasarkan gambar tersebut, pasangkan antara gambar dengan nama tahapannya!

Tahapan	
1	●
2	●
3	●
4	●

Peristiwa	
●	Kondensasi
●	Evaporasi
●	Infiltrasi
●	Presipitasi

11. Perhatikan gambar berikut!



Gambar A



Gambar B



Gambar C



Gambar D

Berdasarkan gambar tersebut, pasangkan antara gambar dengan jenis usaha ekonomi yang sesuai!

Gambar	
A	●
B	●
C	●
D	●

Usaha Kegiatan Ekonomi	
●	Jasa
●	Pertanian
●	Perdagangan
●	Perindustrian

12. Perhatikan gambar berikut!



A



B



C



D

Berdasarkan gambar tersebut, pasangkanlah gambar tarian dengan nama tarian berdasarkan properti yang digunakan!

Gambar	
A	●
B	●
C	●
D	●

Nama Tarian	
●	Tari kuda lumping
●	Tari kipas
●	Tari piring
●	Tari kecak

D. ISIAN SINGKAT

Isilah titik-titik berikut ini dengan jawaban yang tepat !

13. Perhatikan gambar berikut!



Tarian adat dalam gambar tersebut berasal dari daerah

14. Perhatikan gambar berikut!




Dampak pencemaran air dari gambar tersebut adalah

15. Perhatikan gambar berikut!



Kegiatan ekonomi yang tampak pada gambar tersebut adalah

16. Perhatikan gambar berikut!



Bentuk pola lantai berdasarkan gambar tersebut adalah

E. URAIAN

Jawablah pertanyaan berikut dengan tepat!

17. Perhatikan semboyan berikut!

“Bhinneka Tunggal Ika”

Apa makna dari semboyan tersebut bagi bangsa Indonesia?

Jawaban :

.....

.....

.....

18. Bacalah teks berikut!

Suku Baduy terbagi dalam dua golongan, yaitu Baduy Dalam dan Baduy Luar. Perbedaan yang paling dasar dari kedua suku ini terlihat dari cara menjalankan suatu adat. Jika Baduy Dalam masih memegang teguh adat dan menjalankan aturan adat dengan baik, sebaliknya tidak dengan Baduy Luar dianggap sudah terpengaruh

Buatlah peta pikiran dari teks tersebut!

Jawaban :

.....

.....

.....

19. Perhatikan ilustrasi berikut!

Usaha yang dikelola sendiri disebut usaha perorangan. Usaha ekonomi ini memiliki modal terbatas dan biasanya dikelola secara sederhana.

Tuliskan 4 contoh usaha ekonomi berdasarkan ilustrasi tersebut!

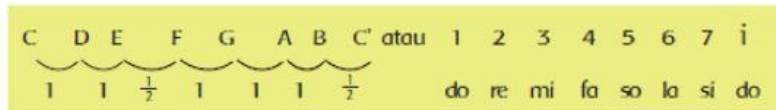
Jawaban :

.....

.....

.....

20. Perhatikan tangga nada diatonis berikut!



Berdasarkan urutan tangga nada diatonis di atas, tuliskan 3 ciri-ciri tangga nada diatonis tersebut beserta salah satu contoh judul lagu nasional!

Jawaban :

- a.
- b.
- c.

Contoh judul lagu nasional :

"Selamat Mengerjakan"