


# FICHA PARA CLASIFICAR INTERVALOS MUSICALES

## Curso 3º ESO - adaptada

Clasifica los siguientes intervalos uniendo con líneas cada intervalo con la opción correcta:




3ª mayor




2ª menor



5ª justa



8ª justa



6ª mayor