



Nama : Mata Pelajaran : SENI RUPA
Kelas : V (LIMA) Hari/Tanggal :

PILIHAN GANDA

A. Pilihlah satu jawaban yang benar!

1. Mekrame merupakan kerajinan
 - A. Menyimpul tali
 - B. Bermain tali
 - C. Tali-menali
 - D. Ikatan tali
2. Contoh bahan alami untuk membuat anyaman adalah
 - A. Jerami ,pelepah pisang dan pita
 - B. Tali rafia ,bamboo dan rumbai
 - C. Sulur kayu,kain dan kertas
 - D. Janur ,rotan dan bambu
3. Simpul untuk mengakhiri rangkaian simpul ganda atau simpul tunggal adalah
 - A. simpul mati
 - B. simpul quipu
 - C. simpul kepala
 - D. simpul shimenawa
4. Daerah yang dikenal sebagai produsen kerajinan anyaman eceng gondok adalah
 - A. Kediri
 - B. Nabire
 - C. Ambarawa
 - D. Bengkayang

ISIAN

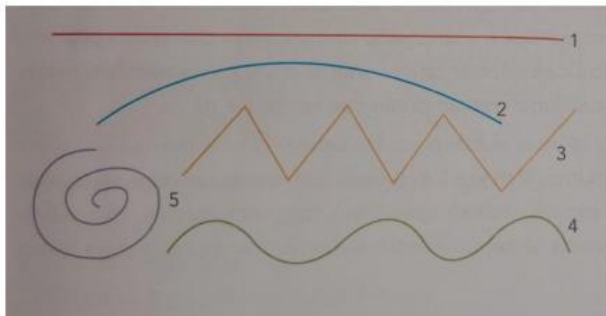
B. Isilah titik-titik berikut ini dengan tepat!

5. Jenis simpul yang berguna untuk mengangkat atau menurunkan benda adalah
6. Kerajinan mengikat dan menyimpul disebut dengan istilah
7. Nilon merupakan bahan baku untuk membuat serat
8. Suvenir yang dibuat dengan teknik anyaman dapat berupa

MENJODOHKAN

C. Tariklah garis dari pernyataan dengan jawaban yang tepat!

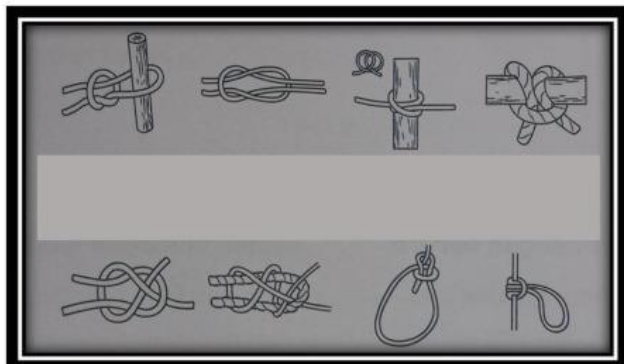
Perhatikan gambar bentuk garis berikut untuk menjawab soal nomor 9



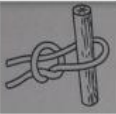



9. Berdasarkan informasi, carilah pasangan pernyataan dengan jawaban yang tepat.

- | | | | |
|------------------|---|---|------------------------|
| a. Garis nomor 1 | • | • | Garis lengkung majemuk |
| b. Garis nomor 2 | • | • | Garis lurus majemuk |
| c. Garis nomor 3 | • | • | Garis lurus |
| d. Garis nomor 4 | • | • | Garis lengkung tunggal |





Perhatikan gambar macam-macam simpul berikut untuk menjawab soal nomor 10



10. Berdasarkan informasi, carilah pasangan pernyataan dengan jawaban yang tepat.

- | | | | |
|--|---|---|----------------|
| a.  | • | • | Simpul anyam |
| b.  | • | • | Simpul tiang |
| c.  | • | • | Simpul pangkal |
| d.  | • | • | Simpul hidup |

11. Apa bahan yang digunakan untuk membuat produk-produk anyaman berikut? Cobalah hubungkan gambar-gambar berikut dengan bahan yang digunakan menggunakan garis!

- | | | | |
|----|--|---|----------------|
| a. |  | • | • Eceng gondok |
| b. |  | • | • pandan |
| c. |  | • | • rotan |
| d. |  | • | • bambu |

12. Berasal dari manakah souvenir anyaman berikut? Coba hubungkan gambar-gambar berikut dengan nama daerah asalnya menggunakan garis!

- | | | | |
|----|---|---|-------------------|
| a. |  | • | • Lampung Selatan |
| b. |  | • | • Bogor |
| c. |  | • | • Bengkulu |



d.



• Ambarawa

URAIAN

D. Selesaikan soal berikut dengan benar!

Perhatikan taman pelangi Surabaya berikut untuk menjawab soal nomor 13 dan 14



Malam hari



Siang hari

13. Bentuk apa yang mengalami perulangan? Jelaskan!

14. Bagaimana raut dari bentuk tersebut?

15. Tuliskan minimal 3 macam produk karya makrame yang kamu tahu!

Perhatikan gambar berikut untuk menjawab soal nomor 16



16. Tuliskan minimal 5 produk anyaman yang terlihat pada gambar di atas?


PILIHAN GANDA KOMPLEKS

D. Selesaikan soal berikut dengan tepat!

17. Berilah tanda centang pada kolom Benar dan Salah pada pernyataan yang sesuai.

Pernyataan	Benar	Salah
Titik adalah bentuk yang paling sederhana		
Garis memiliki 3 dimensi yakni panjang dan memiliki arah		
Bidang memiliki 2 dimensi yaitu panjang dan lebar		

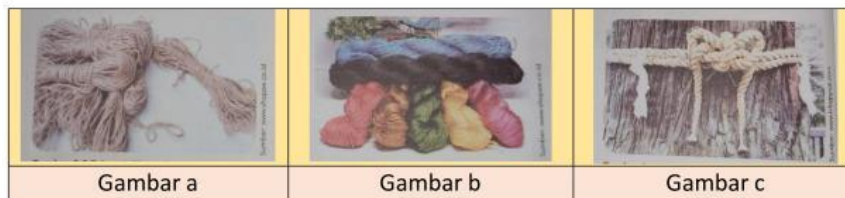
Perhatikan gambar berikut untuk menjawab soal nomor 18



18. Ikatan dan simpul tali digunakan untuk berbagai keperluan. Berdasarkan informasi di atas, Berilah tanda centang pada setiap pernyataan yang benar.

Pernyataan	Benar	Salah
Gambar a. untuk membuat tandu		
Gambar b. untuk membuat mainan		
Gambar c. untuk membuat karya kerajinan		

Perhatikan gambar berikut untuk menjawab soal nomor 19



19. Berdasarkan informasi di atas, Berilah tanda centang pada setiap pernyataan yang benar.

Pernyataan	Benar	Salah
Gambar a. merupakan tali rami dibuat dari serat tanaman		
Gambar b. merupakan tali nilon dibuat dari bahan sintesis		
Gambar c. merupakan rangkaian Quipu yang terdiri dari beberapa simpul		

20. Berilah tanda centang pada kolom Benar dan Salah pada pernyataan yang sesuai.

Pernyataan	Benar	Salah
Daerah sulawesi memiliki kerajinan anyaman kipas bambu		
Kerajinan tas juah berasal dari Bengkulu		
Daerah Bogor terdapat kerajinan anyaman limbah kertas		

Selamat Bekerja 😊