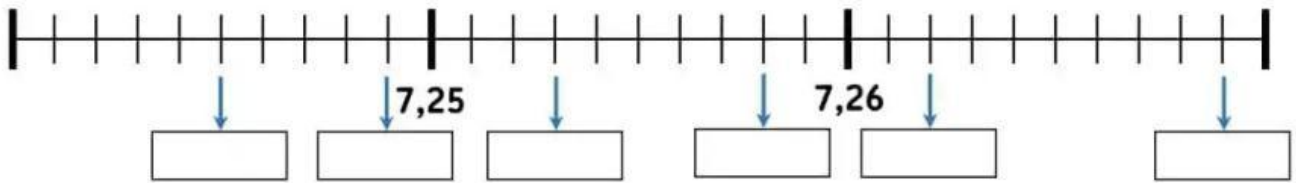
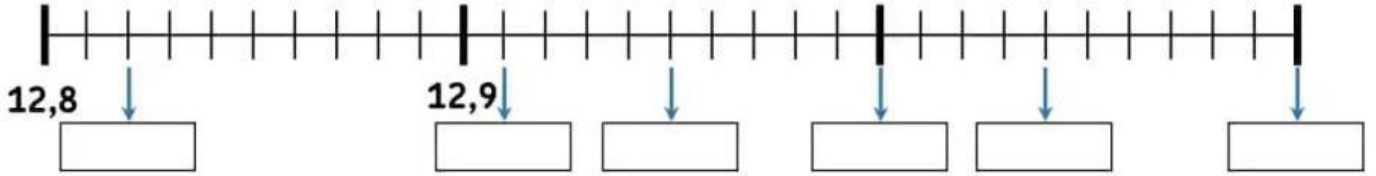
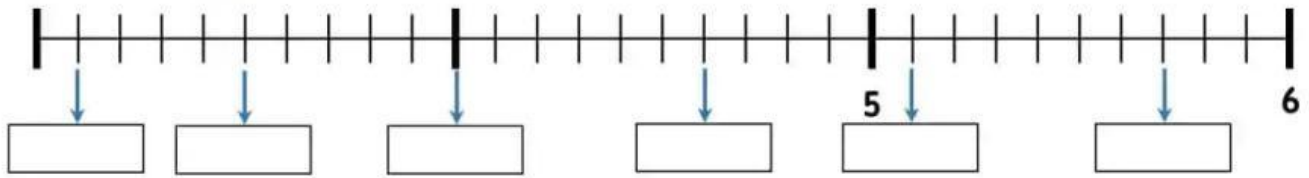


● **Completa las siguientes rectas numéricas:**



● **Ordena los siguientes números decimales de menor a mayor:**

5,6 5,54 5,5 5,45 5,05 →

7,09 7,009 7,9 7,95 7,59 →

0,67 0,6 0,7 0,607 0,675 →

1,89 1,88 1,8 1,9 1,98 →