



1. Marca un tick en la opción correcta

	son las nueve en punto son las nueve y media
	son las diez menos cuarto son las diez y cuarto
	son las nueve en punto son las nueve y cuarto



2.- Continúa la serie



09:30    :    :    :    :



05:00    :    :    :    :



:    07:30    :    :    :

3.- Indica anterior y posterior


:    07:30    :  
 UNA HORA

MEDIA HORA  
 :    07:30    :




4.- Selecciona la hora correcta

09:00




The first row shows a digital clock displaying 09:00. To its right are three analog clocks. The first analog clock shows 9:00 (hour hand on 9, minute hand on 12). The second analog clock shows 9:30 (hour hand between 9 and 10, minute hand on 6). The third analog clock shows 9:00 (hour hand on 9, minute hand on 12).

07:30



The second row shows a digital clock displaying 07:30. To its right are three analog clocks. The first analog clock shows 7:30 (hour hand between 7 and 8, minute hand on 6). The second analog clock shows 7:00 (hour hand on 7, minute hand on 12). The third analog clock shows 7:30 (hour hand between 7 and 8, minute hand on 6).

09:45



The third row shows a digital clock displaying 09:45. To its right are three analog clocks. The first analog clock shows 9:45 (hour hand between 9 and 10, minute hand on 9). The second analog clock shows 9:15 (hour hand between 9 and 10, minute hand on 3). The third analog clock shows 9:45 (hour hand between 9 and 10, minute hand on 9).

4. Ana fue a la biblioteca a las 10:30 y salió una hora y media después. ¿A que hora salió?



Entró

Salió



Solución: Ana salió a las



5.- Indica la opción correcta teniendo en cuenta las agujas



01:00

01:15

01:30

01:45



11:00

11:15

11:30

11:45



05:00

05:15

05:30

05:45



03:00


03:15

03:30

03:45

6.- Completa


Son las 9 en punto



Dentro de 15 minutos serán...



Son las 7 y media



Dentro de 1 hora y cuarto serán...



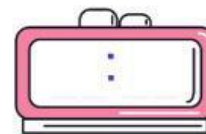
7.- Escribe



Son las 8 y cuarto



Son las 9 menos cuarto



Son las 7 en punto