















Геометрические фигуры

1. Соедини линиями геометрические фигуры и их названия:

	<input type="text" value="Овал"/>
	<input type="text" value="Квадрат"/>
	<input type="text" value="Трапедция"/>
	<input type="text" value="Треугольник"/>
	<input type="text" value="Прямоугольник"/>
	<input type="text" value="Ромб"/>
	<input type="text" value="Круг"/>
	<input type="text" value="Многоугольник"/>

2. Напиши название геометрической фигуры:

					
_____	_____	_____	_____	_____	_____

3. Как называется фигура? Выбери правильный ответ:



1.Треугольник
2.Ромб
3.Квадрат

1. Прямоугольник
2.Квадрат
3.Трапедция

1.Ромб
2.Треугольник
3.Овал

1.Квадрат
2.Прямоугольник
3.Трапедция

1.Овал
2.Круг
3. Многоугольник