

1 ¿Cuáles de estas figuras son polígonos? Rodéalos.

A.



B.



C.



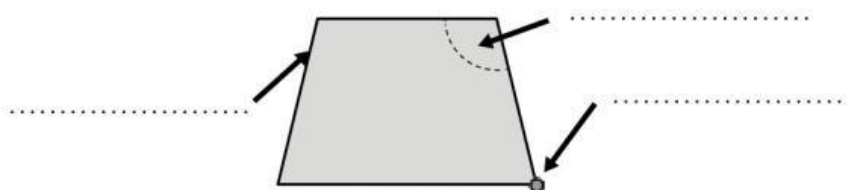
D.




E.



2 Escribe los nombres de los elementos de este polígono.



3 Dibuja un polígono de 6 lados.

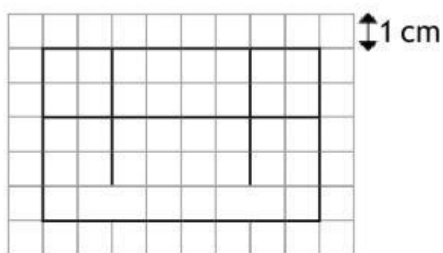


a) ¿Cómo se llama? .....

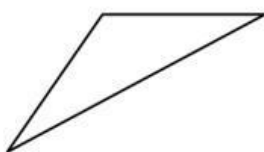
b) ¿Cuántos vértices tiene? .....

c) ¿Y ángulos? .....

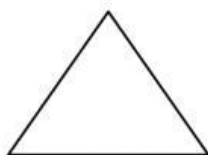
4 Si cada cuadradito mide 1 cm de lado, ¿cuál es el perímetro de la figura?



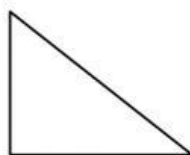
5 Mide y clasifica estos triángulos según sus lados.



.....



.....



.....



.....