



TAREA 2 DE MATEMÁTICAS

SEGUNDO GRADO, I Periodo

FECHA DE ENTREGA: viernes 7 de junio

PROFESORA: MSc. Gloriana Castro G.

Nombre: _____ Sección: _____

Aprendizajes esperados:

1. Efectúa sumas en columnas.

Instrucciones generales:

- ♥ Entregue a la docente la tarea de forma física, en la fecha indicada, no agregue folders ni portada.
- ♥ Trabaje con excelente orden y aseo. Realice los trazos de las letras y números correctamente. La tarea se debe colorear.

Aspectos por evaluar	No responde o no logrado	1 pts Inicial	2 pts En proceso	3 pts Logrado
1. Realiza las sumas sin agrupar correctamente.		Realiza de 1 a 2 sumas sin agrupar correctamente.	Realiza de 3 a 4 sumas sin agrupar correctamente.	Realiza de 5 a 6 sumas sin agrupar correctamente.
2. Reconoce la clave de color según el resultado de la suma.		Reconoce la clave de color según el resultado de 1 a 2 sumas.	Reconoce la clave de color según el resultado de 3 a 4 sumas.	Reconoce la clave de color según el resultado de 5 a 6 sumas.
3. Coloca las cifras correctamente, en unidades, decenas y centenas.		Coloca las cifras de 1 a 2 sumas correctamente, en unidades, decenas y centenas.	Coloca las cifras de 3 a 4 sumas correctamente, en unidades, decenas y centenas.	Coloca las cifras de 5 a 6 sumas correctamente, en unidades, decenas y centenas.
4. Realiza las sumas agrupando correctamente.		Realiza de 1 a 4 sumas agrupando correctamente.	Realiza de 5 a 7 sumas agrupando correctamente.	Realiza de 8 a 9 sumas agrupando correctamente.
Calificación Total, de puntos: 12 Porcentaje: 5%		Puntos	Nota	Porcentaje

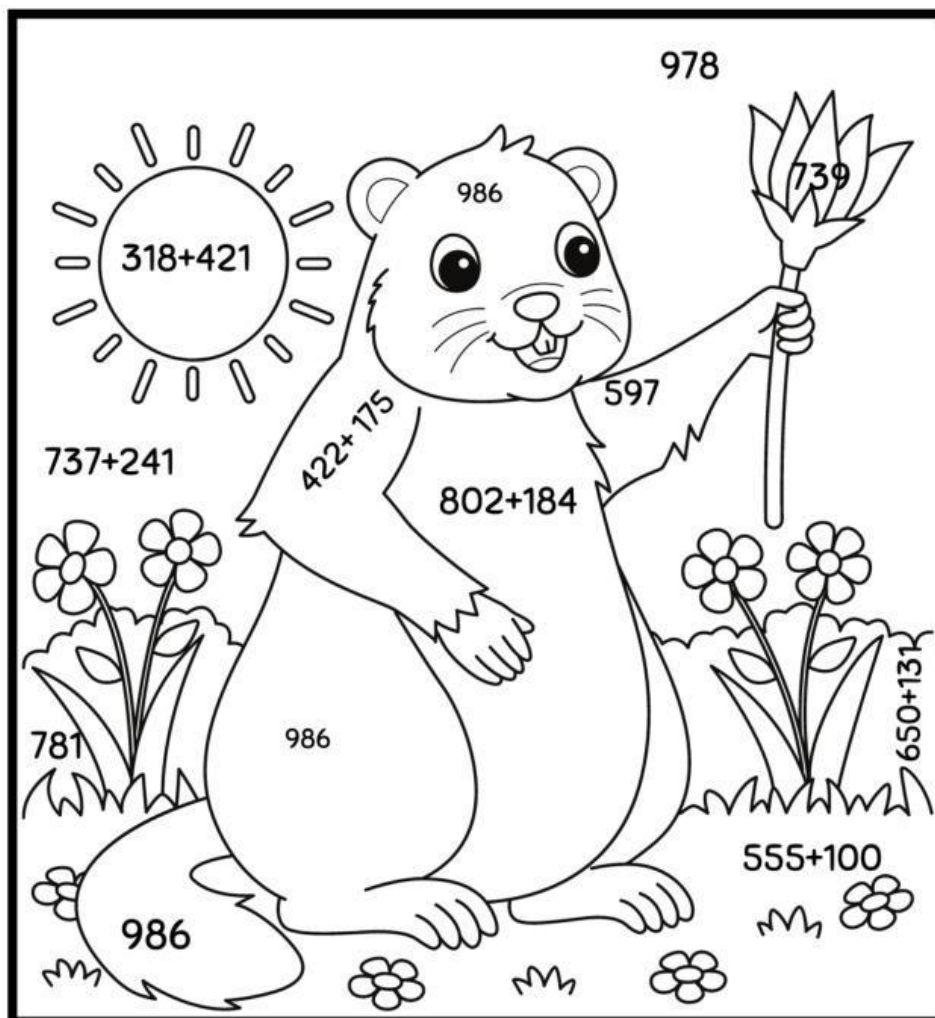
Firma del Padre o encargado: _____



Adiciones

Tarea Segundo 2-3

- Realice las 6 sumas en la hoja adjunta (casa de valores).
- Utilice las claves para colorear la imagen.



781 

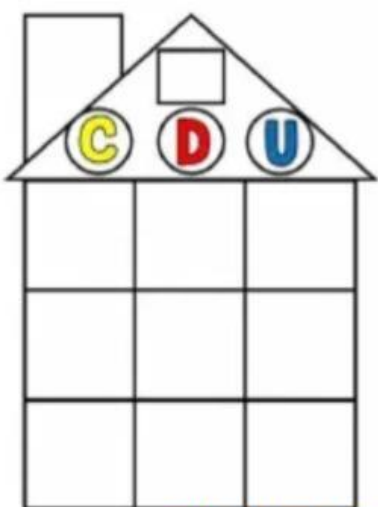
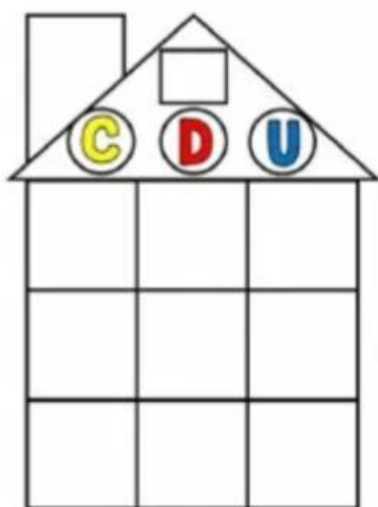
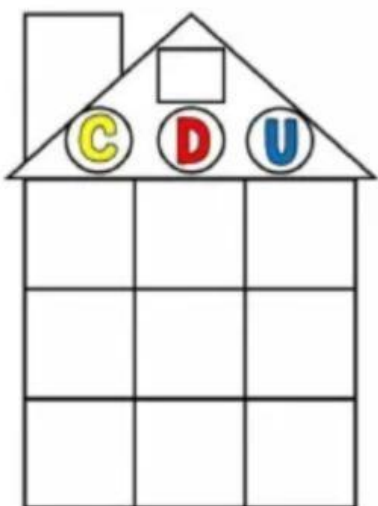
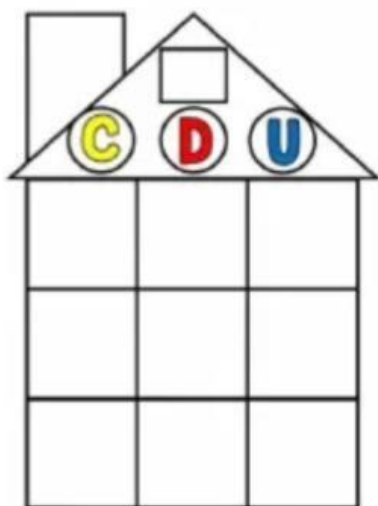
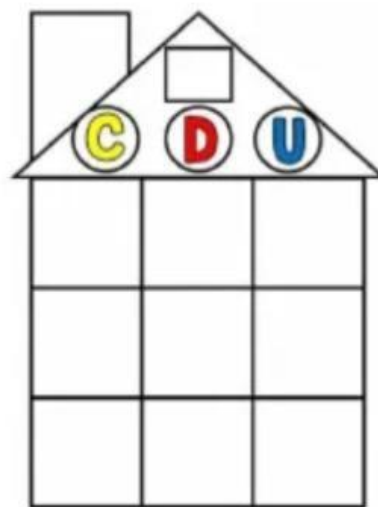
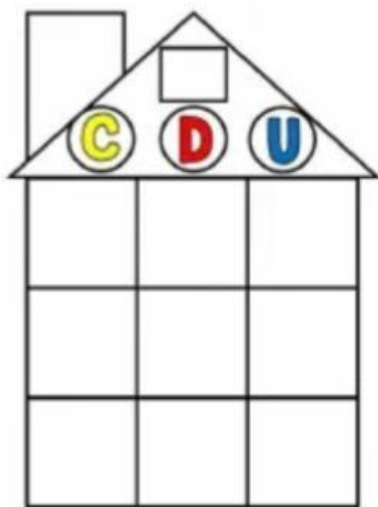
597 

978 


986 

655 

739 





A 


4	8	5
+	2	3
	0	

B

6	7	7
+		9
		4

C

3	5	0
+	1	2
	8	

D 


9	3	8
+		1
		5

E

2	2	2
+	1	3
		9

F

7	2	3
+	2	6
	0	

G 

8	0	8
+	1	4
		5

H

1	6	7
+		9
		0

I

5	2	1
+	2	1
	8	